

TÜRKÇE : Eş Anlamlı Sözcükler**MATEMATİK** : Toplama İşlemi**HAYAT BİLGİSİ**: Kurallar Her Yerde, İhtiyaçlarımız ve İsteklerimiz

1 ★ kelime - sözcük

▲ esir - köle

■ geri - ileri

● tane - adet

♥ cesur - korkak

Yukarıdakilerden hangilerinde verilen sözcük ikilileri eş anlamlı değildir?

A) ★ ve ▲

B) ■ ve ♥

C) ● ve ▲

2 Görevlerini zamanında yapmalısın.

Yukarıdaki cümlede "görev" sözcüğünün yerine aşağıdakilerden hangisi getirilebilir?

A) iş

B) ödev

C) vazife

3 Hangi seçenekteki sözcükler eş anlamlı değildir?

A) armağan - ödül

B) cevap - yanıt

C) uyarı - ikaz

4 Bu kadar kirli bir yerde yaşarsan, hasta olursun.Yukarıdaki cümlede altı çizili sözcüğün yerine hangisini yazarsak cümlenin anlamı değişmez?

A) pis

B) dağınık

C) kötü

5 Rüyasında çok iyi bir doktor olduğunu görmüş.Aşağıdakilerden hangisi cümlede geçen altı çizili olan sözcüklerden birinin eş anlamlısı değildir?

A) hekim

B) hayal

C) düş

6 Büyüyüp gelişebilmek için sağlıklı besinler tüketmeliyiz.

Altı çizili sözcüğün eş anlamlısı hangi cümlede kullanılmıştır?

- A) Sebze ve meyveleri mevsiminde tüketmeye özen gösteririm.
- B) Trafik polisi sayesinde güvenli bir şekilde karşıya geçebildi.
- C) Paketli gıdaları satın alırken son tüketim tarihine dikkat etmelisin.



Yukarıdaki sözcükler eş anlamlılarıyla eşleştirildiğinde hangi sözcük açıkta kalır?

- A) 2
- B) 4
- C) 5

8 $53 + 26 = \dots\dots\dots$

Yukarıdaki toplama işleminin sonucu için aşağıdakilerden hangisi yanlıştır?

- A) Sonuç 7 onluk ve 9 birlikten oluşmuştur.
- B) Sonucun en yakın olduğu onluk 80'dir.
- C) İşlemin sonucu 81'den büyüktür.

9 Bir toplama işleminde, birinci toplanan 26, ikinci toplanan 63'tür. Buna göre toplam kaçtır?

- A) 91
- B) 89
- C) 81

10 Aşağıdaki toplama işlemlerinden hangisinin sonucu diğerlerinden farklıdır?

A)
$$\begin{array}{r} 24 \\ 32 \\ + 37 \\ \hline \end{array}$$

B)
$$\begin{array}{r} 62 \\ 27 \\ + 9 \\ \hline \end{array}$$

C)
$$\begin{array}{r} 36 \\ 39 \\ + 23 \\ \hline \end{array}$$

11

34	+	16	+	15	=	
			+			
35	+	19	=			
			=			
5	+	10	+		=	

Yukarıdaki renkli kutulara aşağıdaki sayılardan hangisini yazamayız?

- A) 85 B) 70 C) 64

12

$$61 + 27 = 78$$

$$36 + 38 = 74$$

$$54 + 19 = 73$$

$$75 + 16 = 81$$

Yukarıdaki işlemlerden kaç tanesinin sonucu doğru bulunmuştur?

- A) 2 B) 3 C) 4

13

$$\begin{array}{r} 49 \\ + 35 \\ \hline 83 \end{array}$$

Yukarıdaki eldeli toplama işlemi yapılırken yapılan hata aşağıdakilerden hangisinde doğru açıklanmıştır?

- A) Birler basamağı yanlış toplanmıştır.
B) Elde yanlış bulunmuştur.
C) Onluklar toplanırken elde eklenmemiştir.

14



Elmaların kütlesi kirazların kütlesinden 24 kg fazladır. Buna göre elmaların kütlesi kaç kilogramdır?

- A) 49 B) 45 C) 42

15 Aşağıdakilerden hangisi okulda oyun oynarken yapılması yanlış olan hareketlerden biridir?




- A) Arkadaşlarımıza karşı nazik olmak.
- B) Oyunu kaybedince arkadaşlarımıza kızmak.
- C) Arkadaşlarımıza zarar vermemek.

- 16
1. Oyunu kazanabilmek için hile yapmak
 2. Oyunu kuralına uygun olarak oynamak
 3. Oyun sırasında arkadaşlarına zarar vermek
 4. Oyun sonrasında kazananları tebrik etmek
 5. Oyun sırasında yaralanan arkadaşlarına yardımcı olmak

Mehmet oyun oynarken arkadaşlarına saygılı davranan bir çocuktur. Buna göre Mehmet'in yukarıdaki davranışlardan hangilerini yapması beklenir?




- A) 1 ve 5
- B) 2, 3 ve 4
- C) 2, 4 ve 5

17 Aşağıdakilerden hangisi bir öğrencinin ihtiyaçlarından değildir?

- A) 
- B) 
- C) 

18 Derya Öğretmen bugün hayat bilgisi dersinde "İhtiyaçlarımız ve İsteklerimiz" konusunu işledi. Öğrencilerinden ihtiyaçlarımıza örnek vermelerini istedi.

Buna göre hangi öğrenci öğretmenin sorusuna yanlış örnekle cevap vermiştir?

- A)  Silgisi biten bir öğrencinin yeni bir silgi alması
- B)  Karnı acıkan bir öğrencinin kantinden simit alması
- C)  Oyun oynamak isteyen bir çocuğun yeni bir top alması