



2. SINIF MATEMATİK

Bölme İşlemi Genel Tekrar Çalışması - I



Adı Soyadı : Sınıfı : No :

Aşağıdaki bölme işlemlerini verilen yönergelere uyararak yapalım.

Birlikte Yapalım

$$\begin{array}{r} 4 \quad 2 \\ - \quad \quad \quad \\ \hline \end{array}$$

Kendimiz Yapalım, Birlikte Kontrol Edelim

$$\begin{array}{r} 6 \quad 2 \\ - \quad \quad \quad \\ \hline \end{array}$$

$$\begin{array}{r} 16 \quad 2 \\ - \quad \quad \quad \\ \hline \end{array}$$

$$\begin{array}{r} 20 \quad 2 \\ - \quad \quad \quad \\ \hline \end{array}$$

Birlikte Yapalım

$$\begin{array}{r} 6 \quad 3 \\ - \quad \quad \quad \\ \hline \end{array}$$

Kendimiz Yapalım, Birlikte Kontrol Edelim

$$\begin{array}{r} 9 \quad 3 \\ - \quad \quad \quad \\ \hline \end{array}$$

$$\begin{array}{r} 15 \quad 3 \\ - \quad \quad \quad \\ \hline \end{array}$$

$$\begin{array}{r} 24 \quad 3 \\ - \quad \quad \quad \\ \hline \end{array}$$

Birlikte Yapalım

$$\begin{array}{r} 8 \quad 4 \\ - \quad \quad \quad \\ \hline \end{array}$$

Kendimiz Yapalım, Birlikte Kontrol Edelim

$$\begin{array}{r} 12 \quad 4 \\ - \quad \quad \quad \\ \hline \end{array}$$

$$\begin{array}{r} 20 \quad 4 \\ - \quad \quad \quad \\ \hline \end{array}$$

$$\begin{array}{r} 28 \quad 4 \\ - \quad \quad \quad \\ \hline \end{array}$$

Birlikte Yapalım

$$\begin{array}{r} 15 \quad 5 \\ - \quad \quad \quad \\ \hline \end{array}$$

Kendimiz Yapalım, Birlikte Kontrol Edelim

$$\begin{array}{r} 25 \quad 5 \\ - \quad \quad \quad \\ \hline \end{array}$$

$$\begin{array}{r} 40 \quad 5 \\ - \quad \quad \quad \\ \hline \end{array}$$

$$\begin{array}{r} 50 \quad 5 \\ - \quad \quad \quad \\ \hline \end{array}$$

Birlikte Yapalım

$$\begin{array}{r} 14 \quad 2 \\ - \quad \quad \quad \\ \hline \end{array}$$

Kendimiz Yapalım, Birlikte Kontrol Edelim

$$\begin{array}{r} 21 \quad 3 \\ - \quad \quad \quad \\ \hline \end{array}$$

$$\begin{array}{r} 32 \quad 4 \\ - \quad \quad \quad \\ \hline \end{array}$$

$$\begin{array}{r} 45 \quad 5 \\ - \quad \quad \quad \\ \hline \end{array}$$



2. SINIF MATEMATİK

Bölme İşlemi Genel Tekrar Çalışması - 2



Adı Soyadı : Sınıfı : No :

Aşağıdaki bölme işlemlerini verilen yönergelere uyararak yapalım.

Birlikte Yapalım

$$\begin{array}{r} 8 \quad 2 \\ - \quad \quad \quad \\ \hline \end{array}$$

Kendimiz Yapalım, Birlikte Kontrol Edelim

$$\begin{array}{r} 12 \quad 3 \\ - \quad \quad \quad \\ \hline \end{array}$$

$$\begin{array}{r} 16 \quad 4 \\ - \quad \quad \quad \\ \hline \end{array}$$

$$\begin{array}{r} 20 \quad 5 \\ - \quad \quad \quad \\ \hline \end{array}$$

Birlikte Yapalım

$$\begin{array}{r} 18 \quad 3 \\ - \quad \quad \quad \\ \hline \end{array}$$

Kendimiz Yapalım, Birlikte Kontrol Edelim

$$\begin{array}{r} 20 \quad 5 \\ - \quad \quad \quad \\ \hline \end{array}$$

$$\begin{array}{r} 16 \quad 4 \\ - \quad \quad \quad \\ \hline \end{array}$$

$$\begin{array}{r} 20 \quad 2 \\ - \quad \quad \quad \\ \hline \end{array}$$

Birlikte Yapalım

$$\begin{array}{r} 24 \quad 4 \\ - \quad \quad \quad \\ \hline \end{array}$$

Kendimiz Yapalım, Birlikte Kontrol Edelim

$$\begin{array}{r} 18 \quad 3 \\ - \quad \quad \quad \\ \hline \end{array}$$

$$\begin{array}{r} 14 \quad 2 \\ - \quad \quad \quad \\ \hline \end{array}$$

$$\begin{array}{r} 15 \quad 5 \\ - \quad \quad \quad \\ \hline \end{array}$$

Birlikte Yapalım

$$\begin{array}{r} 12 \quad 2 \\ - \quad \quad \quad \\ \hline \end{array}$$

Kendimiz Yapalım, Birlikte Kontrol Edelim

$$\begin{array}{r} 36 \quad 4 \\ - \quad \quad \quad \\ \hline \end{array}$$

$$\begin{array}{r} 45 \quad 5 \\ - \quad \quad \quad \\ \hline \end{array}$$

$$\begin{array}{r} 18 \quad 2 \\ - \quad \quad \quad \\ \hline \end{array}$$

Birlikte Yapalım

$$\begin{array}{r} 14 \quad 2 \\ - \quad \quad \quad \\ \hline \end{array}$$

Kendimiz Yapalım, Birlikte Kontrol Edelim

$$\begin{array}{r} 27 \quad 3 \\ - \quad \quad \quad \\ \hline \end{array}$$

$$\begin{array}{r} 35 \quad 5 \\ - \quad \quad \quad \\ \hline \end{array}$$

$$\begin{array}{r} 45 \quad 5 \\ - \quad \quad \quad \\ \hline \end{array}$$



2. SINIF MATEMATİK

Bölme İşlemi Değerlendirme Çalışması



Adı Soyadı : Sınıfı : No :

 Aşağıdaki bölme işlemlerini yapalım.

$$\begin{array}{r} 6 \quad 2 \\ \hline - \quad \quad \quad \\ \hline \end{array}$$

$$\begin{array}{r} 10 \quad 2 \\ \hline - \quad \quad \quad \\ \hline \end{array}$$

$$\begin{array}{r} 16 \quad 2 \\ \hline - \quad \quad \quad \\ \hline \end{array}$$

$$\begin{array}{r} 20 \quad 2 \\ \hline - \quad \quad \quad \\ \hline \end{array}$$

$$\begin{array}{r} 9 \quad 3 \\ \hline - \quad \quad \quad \\ \hline \end{array}$$

$$\begin{array}{r} 12 \quad 3 \\ \hline - \quad \quad \quad \\ \hline \end{array}$$

$$\begin{array}{r} 24 \quad 3 \\ \hline - \quad \quad \quad \\ \hline \end{array}$$

$$\begin{array}{r} 30 \quad 3 \\ \hline - \quad \quad \quad \\ \hline \end{array}$$

$$\begin{array}{r} 8 \quad 4 \\ \hline - \quad \quad \quad \\ \hline \end{array}$$

$$\begin{array}{r} 16 \quad 4 \\ \hline - \quad \quad \quad \\ \hline \end{array}$$

$$\begin{array}{r} 24 \quad 4 \\ \hline - \quad \quad \quad \\ \hline \end{array}$$

$$\begin{array}{r} 32 \quad 4 \\ \hline - \quad \quad \quad \\ \hline \end{array}$$

$$\begin{array}{r} 10 \quad 5 \\ \hline - \quad \quad \quad \\ \hline \end{array}$$

$$\begin{array}{r} 15 \quad 5 \\ \hline - \quad \quad \quad \\ \hline \end{array}$$

$$\begin{array}{r} 30 \quad 5 \\ \hline - \quad \quad \quad \\ \hline \end{array}$$

$$\begin{array}{r} 45 \quad 5 \\ \hline - \quad \quad \quad \\ \hline \end{array}$$

$$\begin{array}{r} 4 \quad 2 \\ \hline - \quad \quad \quad \\ \hline \end{array}$$

$$\begin{array}{r} 12 \quad 4 \\ \hline - \quad \quad \quad \\ \hline \end{array}$$

$$\begin{array}{r} 15 \quad 3 \\ \hline - \quad \quad \quad \\ \hline \end{array}$$

$$\begin{array}{r} 20 \quad 5 \\ \hline - \quad \quad \quad \\ \hline \end{array}$$

$$\begin{array}{r} 28 \quad 4 \\ \hline - \quad \quad \quad \\ \hline \end{array}$$

$$\begin{array}{r} 27 \quad 3 \\ \hline - \quad \quad \quad \\ \hline \end{array}$$

$$\begin{array}{r} 35 \quad 5 \\ \hline - \quad \quad \quad \\ \hline \end{array}$$

$$\begin{array}{r} 18 \quad 2 \\ \hline - \quad \quad \quad \\ \hline \end{array}$$



2. SINIF MATEMATİK

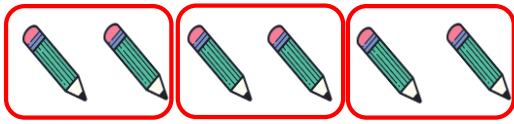
Bölme İşlemini Öğrenelim - I



Adı Soyadı : Sınıfı : No :



Varlıkları 2'şer gruplayarak cümleleri tamamlayalım.



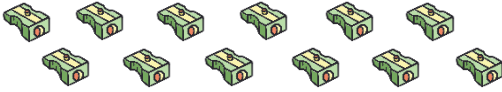
Toplam **6** tane kalem var.
Kalemleri **2'şer** gruplara ayırdım.
3 tane grup oluştu.



Toplam tane silgi var.
Silgileri gruplara ayırdım.
..... tane grup oluştu.



Varlıkları 3'er gruplayarak cümleleri tamamlayalım.



Toplam tane açacak var.
Açacakları gruplara ayırdım.
..... tane grup oluştu.



Toplam tane kitap var.
Kitapları gruplara ayırdım.
..... tane grup oluştu.



Varlıkları 4'er gruplayarak cümleleri tamamlayalım.



Toplam tane çanta var.
Çantaları gruplara ayırdım.
..... tane grup oluştu.



Toplam ataş silgi var.
Ataşları gruplara ayırdım.
..... tane grup oluştu.



Varlıkları 5'er gruplayarak cümleleri tamamlayalım.



Toplam cetvel kalem var.
Cetvelleri gruplara ayırdım.
..... tane grup oluştu.



Toplam tane makas var.
Makasları gruplara ayırdım.
..... tane grup oluştu.



2. SINIF MATEMATİK

Bölme İşlemini Öğrenelim - 2



Adı Soyadı : Sınıfı : No :



Verilen paylaşımları yaparak ifadeleri tamamlayalım.



Şeker sayısı:
Çocuk sayısı:
Bir çocuğun şeker sayısı:



Kuş sayısı:
Ağaç sayısı:
Bir ağaçtaki kuş sayısı:




Ceviz sayısı:
Tabak sayısı:
Bir tabaktaki ceviz sayısı:



Nal sayısı:
At sayısı:
Bir atın nal sayısı:



Çiçek sayısı:
Kelebek sayısı:
Bir kelebeğin çiçek sayısı:



Kalem sayısı:
Kalemlik sayısı:
Bir kalemlikteki kalem sayısı:



2. SINIF TÜRKÇE

Satır Sonuna Sığmayan Kelimeler



Adı Soyadı : Sınıfı : No :

Satır Sonuna Sığmayan Kelimeler

Satır sonuna sığmayan kelimeler hecelerinden ayrılarak alt satıra yazılabilir.

Satır sonuna kısa çizgi(-) koyulur.



Satır sonuna doğru yazılan kelimeleri işaretleyelim.

mate- matik	bahçe- deki	ten- effüs	sınıf- ta
o- kulumuz	an- neme	pat- ates	vata- nımı
ödev- lerimi	bisikle- time	de- terjan	tra- fik
ra- mera	spor- cu	e- tek	ok- sijen



Aşağıdaki kelimeleri örnekteki gibi satır sonuna yazalım.

kiyafet	oyuncak	ayakkabı	televizyon
salatalık	otobüs	askılık	aferin



2. SINIF HAYAT BİLGİSİ

Ülkemizin Yeri, Bayrağımız ve İstiklâl Marşımız - I



Adı Soyadı : Sınıfı : No :



Cümlelerdeki noktalı yerlere uygun kelimeleri yazalım.

Ankara

TBMM

Türkiye

ülke

İstiklâl Marşı

kırmızı

Dünya üzerinde iki yüzden fazla bulunur.

Ülkemizin adı Cumhuriyeti'dir.

Ülkemizin başkenti 'dır.

..... milli marşımızdır.

Bayrağımızın rengidır.

Ülkemiz Ankara'da bulunan 'den yönetilir.



Aşağıdaki Dünya haritası kesitinde ülkemizin yerini bularak kırmızıya boyayalım.





2. SINIF HAYAT BİLGİSİ

Ülkemizin Yeri, Bayrağımız ve İstiklâl Marşımız - 2



Adı Soyadı : Sınıfı : No :



Aşağıdaki haritada istenen illeri bularak boyayalım.



Başkentimiz

Yaşadığımız il

İstanbul

İzmir

Antalya

Erzurum

Mersin

Şanlıurfa

Rize

Kayseri

Uşak

Artvin

Kırklareli

Samsun

Van

Muğla



Aşağıdaki tabloya istenen bilgileri dolduralım.

Ülkemizin adı	
Başkentimiz	
Yaşadığımız il	
Yaşadığımız ilçe	
Yaşadığımız mahalle veya köy	