

# ELİTÇOCUK 1.SINIF ELİT SET 2.DÖNEM

1. SINIF

## ELİT TÜRKÇE DİL BİLGİSİ



ELİTÇOCUK  
TÜRKÇE DİL BİLGİSİ  
1. SINIF  
1. DÖNEM  
1. HAFTA SONU 1  
GÖREVLERİM

50 dakikalık  
elit bir  
dönem

elit  
çocuk

## HAFTA SONU 1 GÖREVLERİM



HAFTA SONU 1  
GÖREVLERİM

elit  
çocuk

50 dakikalık  
elit bir  
dönem

## ELİT 1 MATEMATİK

50 dakikalık  
elit bir  
dönem

elit  
çocuk

## 1.SINIF OKU ANLA BASLANGIÇ

1. SINIF OKU ANLA  
BASLANGIÇ



AKILLI  
EĞİTİM  
SİSTEMİ

50 dakikalık  
elit bir  
dönem

elit  
çocuk

5'i 1  
ARADA

## KODLAMATİK KODLAMAYLA MATEMATİK ÖŞRENİYORUM

1

50 dakikalık  
elit bir  
dönem

elit  
çocuk

1. Aşağıdaki görselde bize göre sağda olanı işaretleyelim.



2. Akvaryuma en uzak olan hayvanı işaretleyelim.



3. Yüksekte olan çocuğu işaretleyelim.



4. Kafesin üstünde olan kuşu işaretleyelim.



5. En büyük çiçeği işaretleyelim.



6. En ağır hayvanı işaretleyelim.



7. Boş olan sürahiyi işaretleyelim.



8. Masanın altındaki topu işaretleyelim.



- Aşağıdaki sayı tablosundaki boşluklara uygun sayıları yazalım. Bulduğumuz sayıları sırasıyla tırtılın boğumlarına yazalım. Ayaklarını da ikişer ikişer sayıp yazalım.

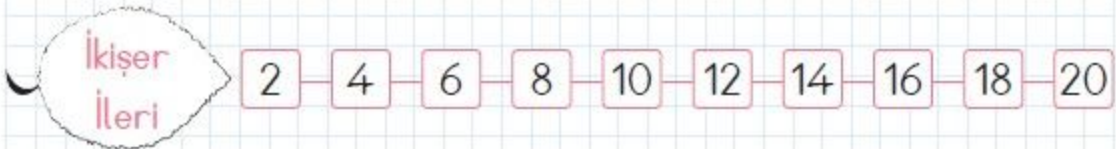
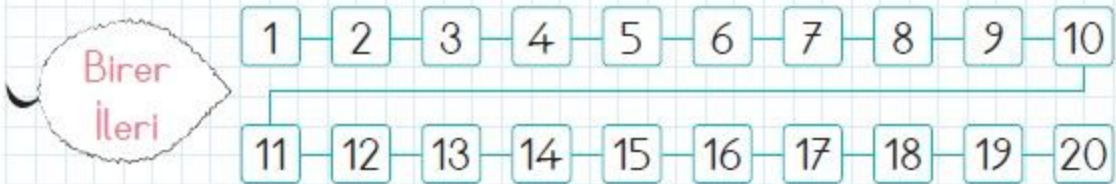
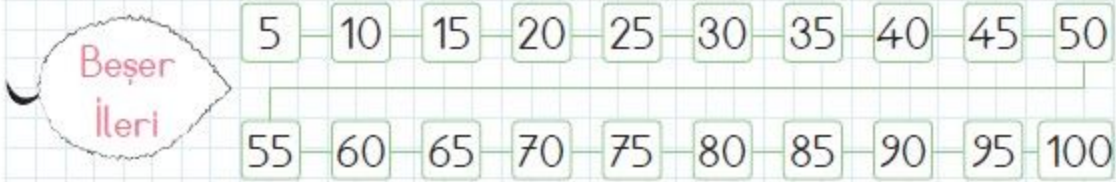
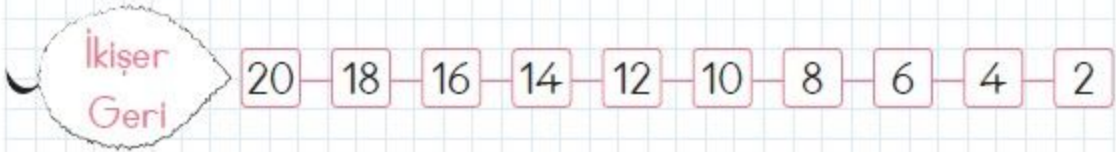
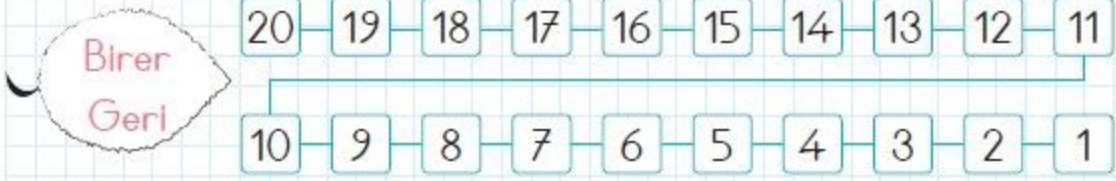
1	2	3	4	.....	6	7	8	9	.....
11	12	13	14	.....	16	17	18	19	.....
21	22	23	24	.....	26	27	28	29	.....
31	32	33	34	.....	36	37	38	39	.....
41	42	43	44	.....	46	47	48	49	.....
51	52	53	54	.....	56	57	58	59	.....
61	62	63	64	.....	66	67	68	69	.....
71	72	73	74	.....	76	77	78	79	.....
81	82	83	84	.....	86	87	88	89	.....
91	92	93	94	.....	96	97	98	99	.....



2 4



- Aşağıdaki ritmik saymaları yüksek sesle yapalım. Ezberlediğimiz ritmik saymanın yaprağını boyayalım.



- Tabloda verilmeyen sayıları bulalım. Sembolünün altına sayıları yazalım.

1	2	3	4	5		7	8	9	10
11	12	13		15	16	17	18	19	20
	22	23	24	25	26	27		29	30
31	32	33		35	36	37	38	39	40
41	42	43	44		46	47	48	49	
51		53	54	55	56	57	58	59	60
61	62	63	64	65		67	68	69	70
71	72	73		75	76	77	78	79	80
81		83	84	85	86	87	88	89	
91	92	93	94	95	96	97	98	99	100



1. Aşağıdaki ileri ve geri ikişer ritmik saymaları devam ettirelim.



2. Aşağıdaki ileri ve geri beşer ritmik saymaları devam ettirelim.



3. Aşağıdaki ileri ve geri onar ritmik saymaları devam ettirelim.



- Geriye doğru birer ve ikişer ritmik sayma yaparak aşağıdaki şifreyi çözelim.

Birer	17								Y
-------	----	--	--	--	--	--	--	--	---

İkişer	20				U				
--------	----	--	--	--	---	--	--	--	--

İkişer	20		I						
--------	----	--	---	--	--	--	--	--	--

Birer	13		A						
-------	----	--	---	--	--	--	--	--	--

Birer	16				S				
-------	----	--	--	--	---	--	--	--	--

İkişer	20	O							
--------	----	---	--	--	--	--	--	--	--

İkişer	18				Y				
--------	----	--	--	--	---	--	--	--	--

Birer	13							R	
-------	----	--	--	--	--	--	--	---	--

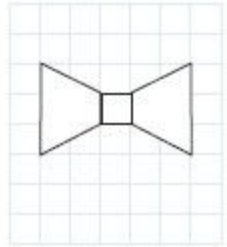
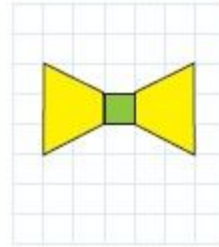
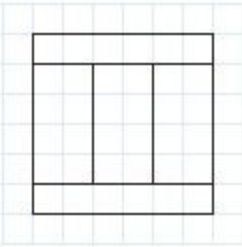
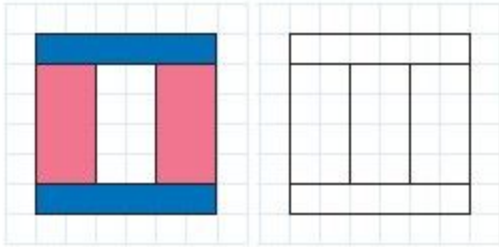
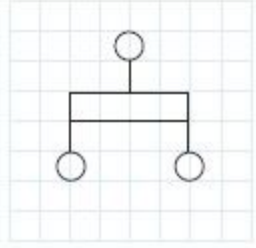
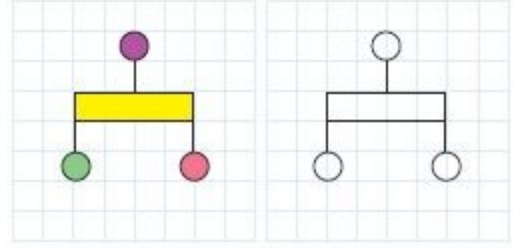
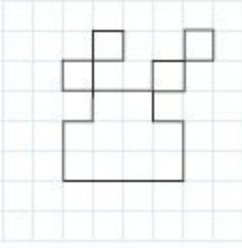
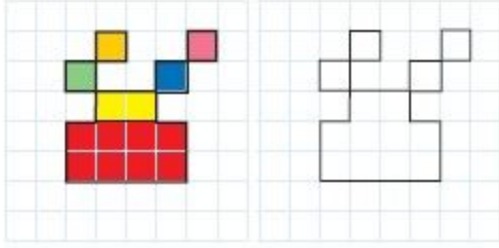
Birer	16								M
-------	----	--	--	--	--	--	--	--	---

**ŞİFRE:**

12	11	8	16	9	18	6	10	7



1. Aşağıdaki şekilleri birbiri ile eş olacak şekilde boyayalım.



2. Yukarıdaki şekillerin eşlerini aşağıdaki boşluklara çiziniz.

