

Ad-Soyad: _____

No: _____

Matematik Çalışma Kağıdı

Saat Okuma (Tam, Yarım, Çeyrek saatler)



1. Aşağıdaki saatlerin öğleden önce ve sonra kaç gösterdiğini örnekteki gibi yazalım.



02 : 00

14 : 00



..... :

..... :



..... :

..... :



..... :

..... :



..... :

..... :



..... :

..... :



..... :

..... :



..... :

..... :

2. Aşağıdaki saatlerin kaç gösterdiğini ve okunuşlarını örnekteki gibi yazalım.



10 : 15

Saat 10'u çeyrek geçiyor.



..... :

.....



..... :

.....



..... :

.....

3. Aşağıdaki saatleri verilen miktarlar kadar ilerletelim. Saatlerin kaçı gösterdiğini ve okunuşlarını örnekteki gibi yazalım.

2 saat

90 dakika

15 : 00

Saat öğleden sonra 3

..... :

..... :

45 dakika

3 saat

..... :

..... :

..... :

yarım saat

45 dakika

..... :

..... :

..... :

Ad-Soyad: _____

No: _____

Matematik Çalışma Kağıdı

Saat Okuma



1. Aşağıdaki saatlerin öğleden önce kaçı gösterdiğini örnekteki gibi yazalım.

	⇒			⇒			⇒	
	⇒			⇒			⇒	

2. Aşağıdaki saatleri okunuşlarıyla, başlarındaki işareti kullanarak örnekteki gibi eşleştirelim.



▲ Saat altıyı on geçiyor.



■ Saat üçe yirmi beş var.



● Saat on ikiyi yirmi beş geçiyor.

◆ Saat sekiz buçuk.



★ Saat beşi beş geçiyor.

♥ Saat yediye on var.

▼ Saat dokuz on var.

⬢ Saat on bire yirmi var.



3. Aşağıdaki saatlerin öğleden önce ve sonra kaç gösterdiğini örnekteki gibi yazalım.

a.



01 : 35

13 : 35

b.



..... :

..... :

c.



..... :

..... :

ç.



..... :

..... :

d.



..... :

..... :

e.



..... :

..... :

4. Aşağıdaki saatlerin okunuşlarını yazalım.



Saat üç çeyrek var



Ad-Soyad: _____

No: _____

Matematik Çalışma Kağıdı

Zaman Ölçüleri Arasındaki İlişki



1. Aşağıdaki saatlere, ortadaki saatlerin bir saat öncesini ve sonrasını çizelim. Saatin kaç olduğunu altlarına yazalım.

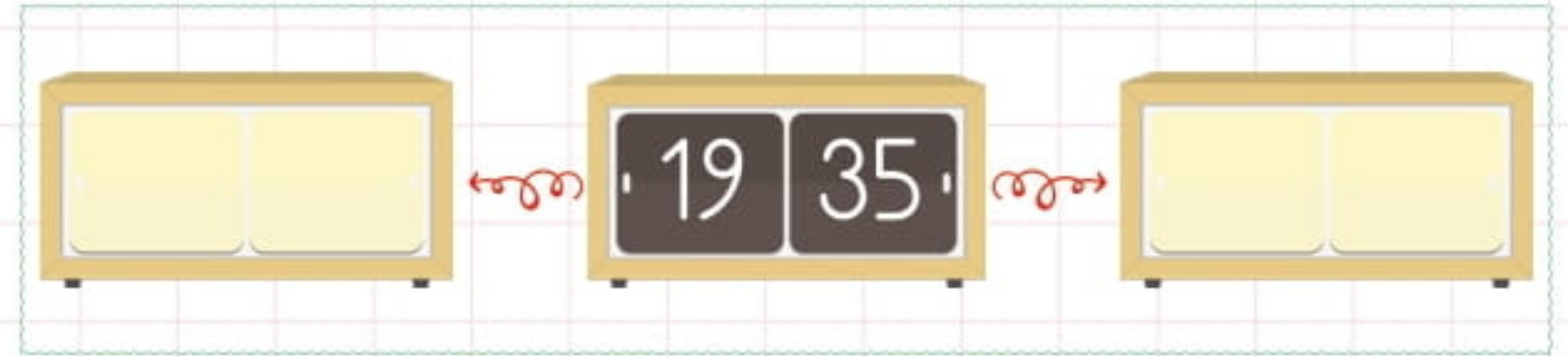
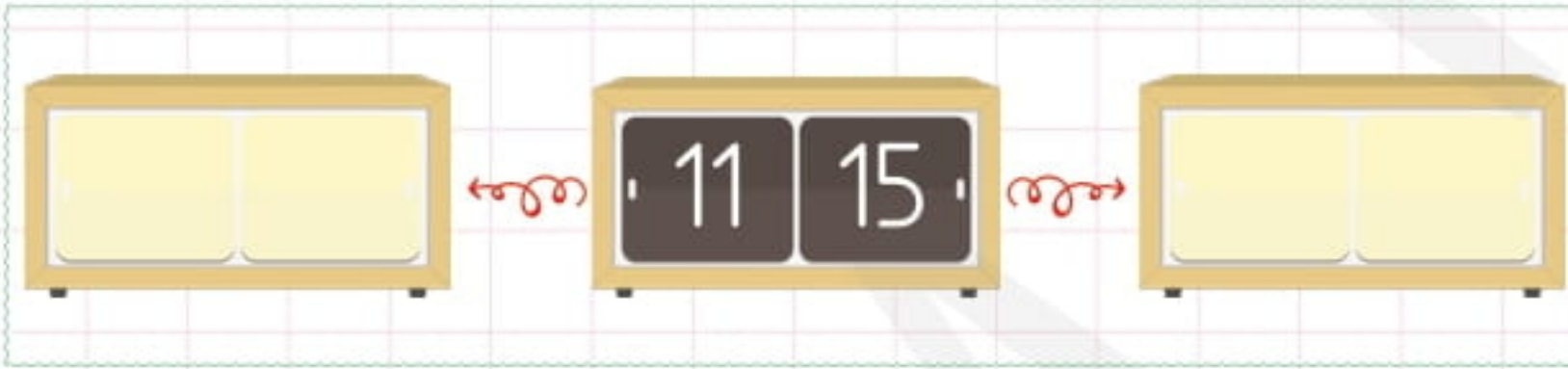
a.




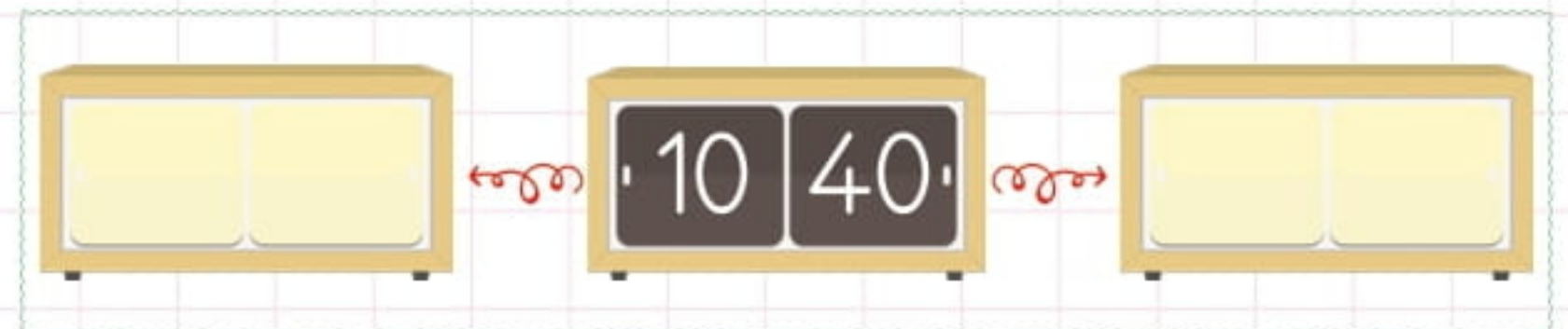
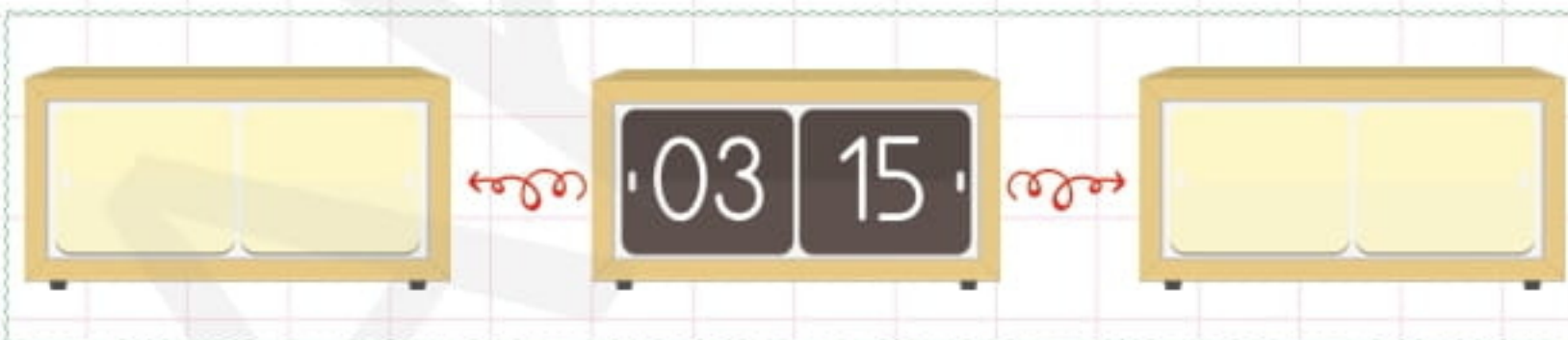
b.



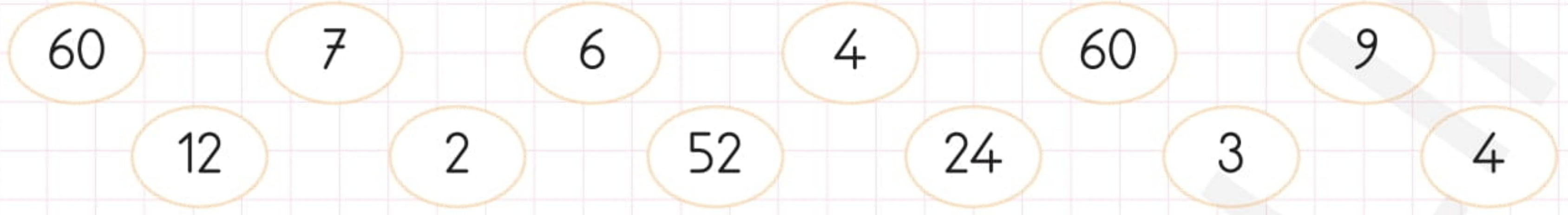
2. Aşağıdaki saatlerin yarım saat öncesini ve sonrasını yazalım.



3. Aşağıdaki saatlerin 15 dakika öncesini ve sonrasını yazalım.




4. Aşağıdaki boşlukları verilen sayılarla dolduralım.



- ★ Bir gün saattir.
- ★ Bir saat dakikadır.
- ★ Bir dakika saniyedir.
- ★ Bir saatte yarım saat, çeyrek saat vardır.
- ★ Yarım saatlerde yelkovan 'nın üzerinde, çeyrek saatlerde ise veya 'un üzerinde olur.
- ★ Bir haftada gün vardır.
- ★ Bir yılda ay, hafta vardır. Yıl boyunca mevsim yaşanır.

5. Dijital saatlerin gösterdiği zamanın 10 dakika sonrasını, analog saat üzerine çizerek gösterelim.



6. Dijital saatlerin gösterdiği zamanın 20 dakika öncesini, analog saat üzerine çizerek gösterelim.

