

Yönümüzü Buluyoruz

1. Aşağıdaki cümleleri uygun ifadelerle tamamlayalım.

doğudan → batı → güneş → güney

dört → yönlerden → kuzey



➡ Nerede olduğumuzu bulmak veya aradığımız bir yeri bulmak için faydalanırız.


➡ tane ana yön vardır. Bunlar;,, doğu ve batıdır.

➡'in hareketlerine bakarak yönümüzü bulabiliriz.

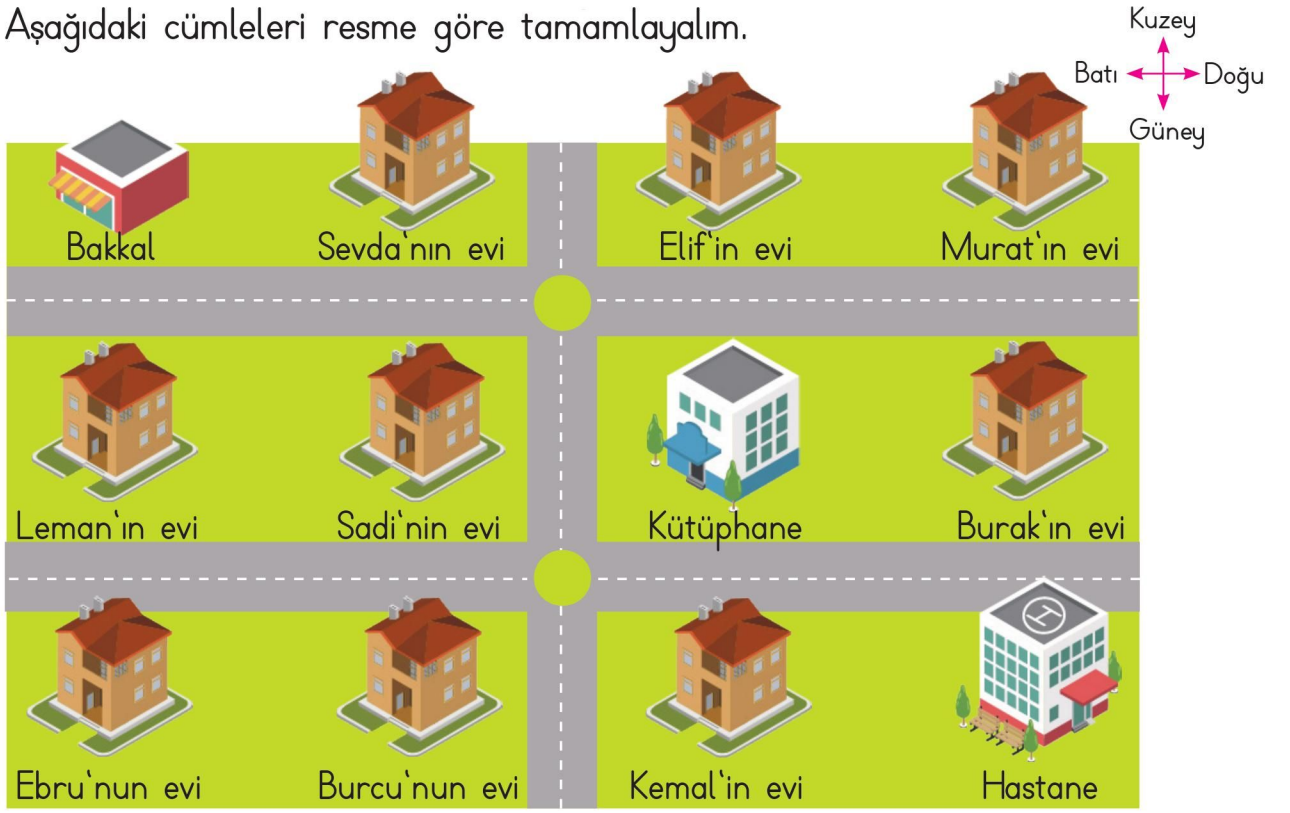
➡ Güneş doğar ve batıdan batar.

➡ Sabahleyin güneşi sağımıza aldığımızda solumuz olur.

2. Mehmet kamp alanında yönleri tespit etmek için sabah erkenden kalkmış, sağ kolunu güneşin olduğu tarafa gelecek şekilde açmıştır. Mehmet'e göre okların gösterdiği yönleri yazalım.



3. Aşağıdaki cümleleri resme göre tamamlayalım.




- a. Ebru'nun evinin kuzeyinde vardır.
- b. Kemal'in evinin doğusunda vardır.
- c. Sadi'nin evinin güneyinde vardır.
- ç. Kütüphane, Burak'ın evinin
- d. Sevdâ'nın evinin batısında vardır.
- e. Murat'ın evi, Elif'in evinin
- f. Hastane, Kemal'in evinin
- g. Kütüphanenin batısında evi, doğusunda evi vardır.
- h. Kütüphanenin güneyindeki ev, kuzeyindeki ev
- ı. Sadi'nin evi, Leman'ın evinin, kütüphanenin
- i. Sevdâ'nın evinin doğusunda evi, güneyinde evi vardır.
- j. Leman'ın evinin kuzeyinde, güneyinde evi vardır.

Dünyanın Şekli ve Hareketleri

1. Aşağıdaki gök cisimlerinin isimlerini altlarına yazalım. Verilen kelimeleri kullanarak boşlukları dolduralım.

| | | |
|-------------|---------|----------|
| gece | batıdan | takip |
| ilkbahar | 24 | 1 yılda |
| kış | gündüz | Güneş |
| Güneş ışığı | doğudan | Dünya |
| dolanır | 1 gün | sonbahar |



Dünya'nın kendi etrafında dönüşü;

- ✎ kendi etrafında döner ve bunun sonucunda ve oluşur.
- ✎ Dünya'nın alan bölümü gündüzü yaşarken ışık alamayan bölümü geceyi yaşar.
- ✎ Dünya sürekli döndüğü için gece ve gündüz de birbirini eder.
- ✎ Dünya kendi etrafındaki tam bir dönüşünü saatte tamamlar. 24 saat içinde bir gündüz ve bir gece yaşanır.
- ✎ Bu 24 saat olarak adlandırılır.
- ✎ Güneş'in görünmesiyle gündüz, kaybolmasıyla gece başlar.

Dünya'nın Güneş etrafında dolanışı;

- ✎ Dünya'nın ısı ve ışık kaynağı'tir.
- ✎ Dünya kendi etrafında dönerken aynı zamanda Güneş'in etrafında Bu dolanma sırasında yeryüzündeki sıcaklık değişir.
- ✎ Bunun sonucunda, yaz, ve mevsimleri oluşur.
- ✎ Dünya, Güneş etrafındaki dolanmasını tamamlar.

2. Aşağıdaki ağaçların altına hangi mevsimde olduklarını ve bu mevsimlerdeki ayları yazalım.



| |
|-------|
| |
| |
| |
| |



| |
|-------|
| |
| |
| |
| |



| |
|-------|
| |
| |
| |
| |



| |
|-------|
| |
| |
| |
| |

3. Aşağıda mevsimlerle ilgili verilen bilgilerden doğru olanları işaretleyelim.

İlkbaharda;

- Havalar iyice ısınır, yağmur az yağar.
- Ağaçlar çiçek açar.
- Kış uykusuna yatan hayvanlar yuvalarından çıkar.

Yazın;

- Gündüzler kısalmış, geceler uzamış.
- Sebze ve meyveler olgunlaşır.
- Havalar çok sıcak olur.

Sonbaharda;

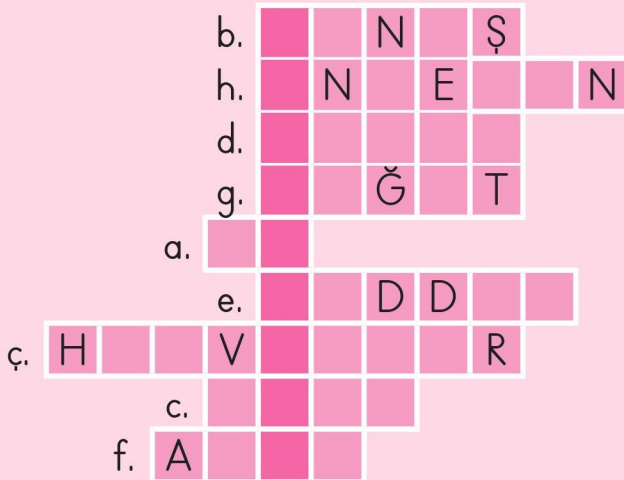
- Göçmen kuşlar sıcak ülkelere göç ederler.
- Toprak, hava ve su ısınmaya başlar.
- Ağaçlar yapraklarını dökmeye başlar.

Kışın;

- Havalar iyice soğur, sert ve soğuk rüzgarlar eser.
- Bazı hayvanlar kış uykusuna yatar.
- Güneş geç doğar, erken batar.

Öğrendiklerimizi Pekiştirelim - 6

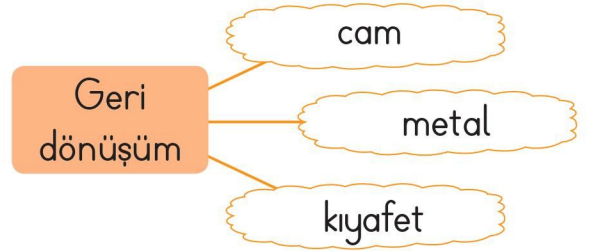
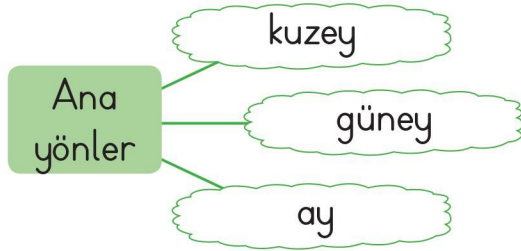
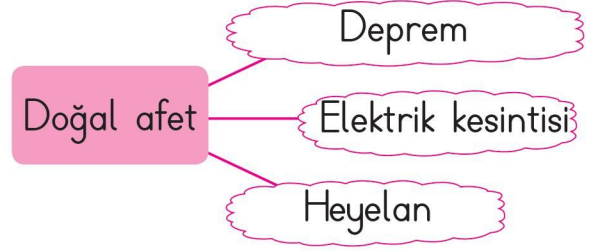
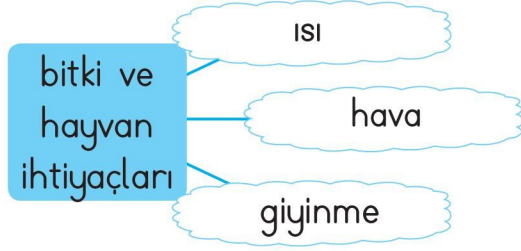
1. Aşağıdaki boşlukları uygun kelimelerle dolduralım. Bulduğumuz kelimeleri bulmacaya yazarak bilmecenin cevabını bulalım.
- a. Bitkiler almazsa kurur, çok alırsa çürür.
- b. Canlıların yaşayabilmesi için, su, hava ve toprağa ihtiyacı vardır.
- c. İnsan hayatında ağaçlar çok önemlidir. Bu nedenle dikmeli ve doğayı korumalıyız.
- ç. Yazın sıcakta susuz kalmış hayvanlara su vermeliyiz. Kışın soğukta kalmış için barınak yapmalıyız.
- d. Dört ana yön vardır. Bunlar;, güney, doğu ve batıdır.
- e. Yer kabuğunun ani veli sallanmasına deprem denir.
- f. Doğaya zarar vermemesi için bitmiş pilleri pil kutularına atmalıyız.
- g. Cam,, plastik, metal gibi atıkları, geriye dönüştürülmesi için, ayrı kutularda biriktirmeliyiz.
- h. Deprem doğal bir afettir. Ne zaman olacağını bilemeyiz.



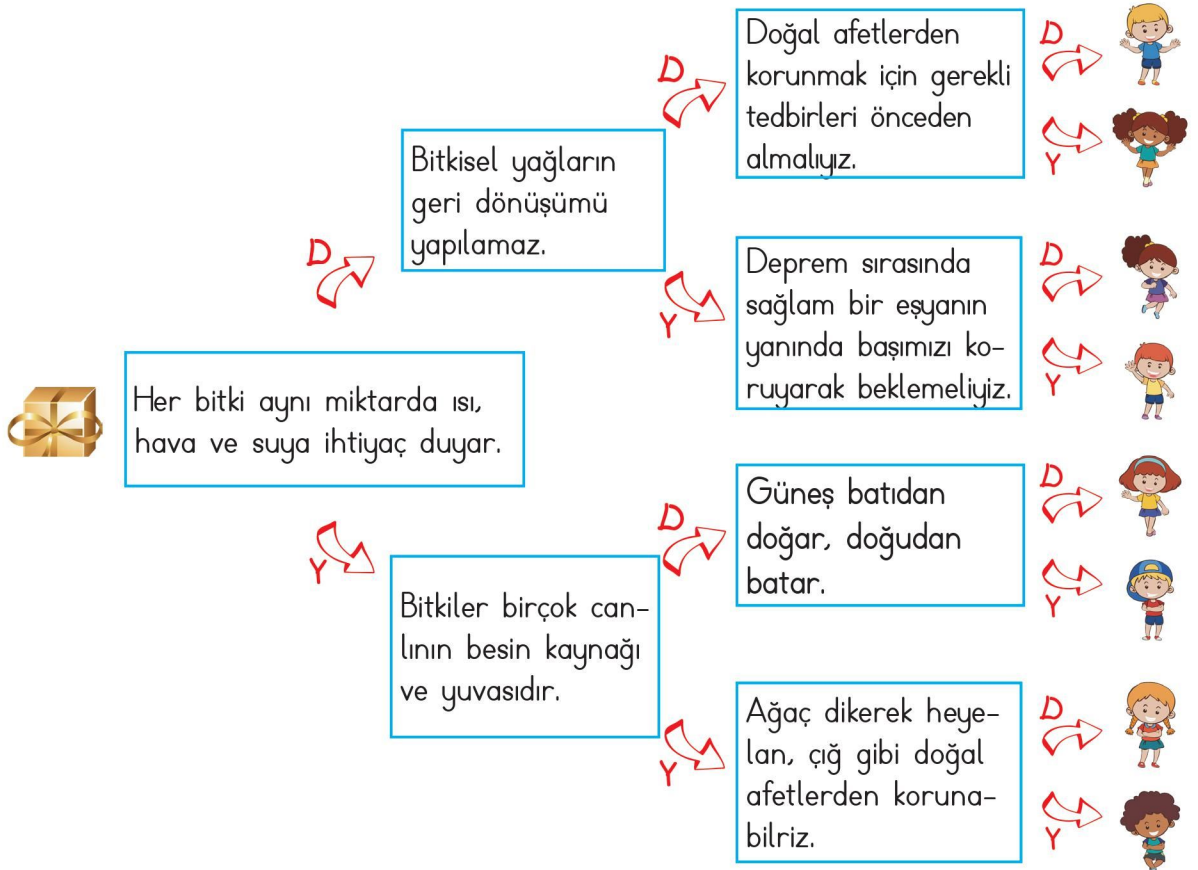
Hangi kuşak bele bağlanmaz?



2. Aşağıdaki kavramların ilişkili olduğu kelimeler etraflarına yazılmıştır. İlgili olmayan kelimeleri bulup boyayalım ya da işaretleyelim.



3. Aşağıda verilen cümlelerden bazıları doğru, bazıları yanlıştır. Hediye kutusunun olduğu cümleden başlayarak, okları takip edelim. Hediyeçinin hangi çocuğun olduğunu bulalım.



Ünite Değerlendirme - 6

1. Aşağıdakilerden hangisi bir bitkinin çimlenmesi için gerekli olan şartlardan biri değildir?

- A. Hava
- B. Su
- C. Elektrik

2. Aşağıdakilerden hangisi ağaçların sağladığı faydalardan biri değildir?

- A. Havanın temizlenmesine yardımcı olur.
- B. Bulunduğu bölgenin bol yağış almasını sağlar.
- C. Diğer bitkilerin büyümesini engeller.

3. Aşağıdakilerden hangisi bazı atıkların toplanıp fabrikalarda işlenip yeni ürünlere dönüştürülmesidir?

- A. Erozyon
- B. Geri dönüşüm
- C. Fabrika

4. Aşağıdakilerden hangisi geri dönüşümün sağladığı faydalardan biridir?

- A. Kirliliğe sebep olması
- B. Doğal çevreye zarar vermesi
- C. Atık maddelerin değerlendirilerek tekrar kullanılabilmesi

Hakim Yayıncılık

5. ▲ Yerlere çöp atmamalıyız.

- Telefon kullanımını azaltmalıyız.
- Ev ve fabrika atıklarını çevreye bırakmamalıyız.
- ★ Daha fazla plastik madde kullanmalıyız.
- * Yeşil alanları korumalı ve çoğaltmalıyız.


Temiz ve sağlıklı bir çevrede yaşamak için yukarıdakilerden hangilerini yapmamız gerekir?


- A. ▲, ■, *
- B. *, ■, ★
- C. ■, ★, ▲

6. Bir hayvanın yaşamını sürdürmesi için aşağıdakilerden hangisine ihtiyacı yoktur?

- A. Su
- B. Besin
- C. Giysi

7.  Büyük kar kütlelerinin çevreye zarar vermesidir.

 Yer kabuğunun ani ve şiddetli sallanmasıdır.

 Yağmur, kar ve kaynak sularının etkisiyle toprağın kayarak sürüklenmesidir.

Yukarıda, aşağıdaki doğal afetlerden hangisinin anlamı verilmemiştir?

- A. Sel
- B. Çığ
- C. Deprem

8. Aşağıdakilerden hangisi deprem sırasında yapılması yanlış olan bir davranıştır?

- A. Merdiven ve asansörü kullanmamak
- B. Sağa sola koşuşturmak
- C. Sakin olmak

9. Deprem ne zaman olacağını bilemediğimiz için, her zaman depreme hazırlıklı olmalıyız. Bu hazırlıklardan biri de deprem çantası hazırlamaktır. Bir deprem çantasında aşağıdakilerden hangisinin bulunması doğru olmaz?

- A. İlk yardım çantası
- B. Ekmek, poğaç gibi doyurucu gıdalar
- C. Kalın giyecekler ve battaniye

10. Aşağıdakilerden hangisi bir ana yön değildir?

- A. Batı
- B. Doğu
- C. Güneş


11. Yüzümüzü güneşin doğduğu yöne döndüğümüzde, arkamız hangi yön olur?

- A. Kuzey
- B. Batı
- C. Doğu

12. Dünya'nın kendi etrafında bir kere dönmesi sonucu aşağıdakilerden hangisi oluşur?

- A. Gün
- B. Ay
- C. Yıl




Genel Değerlendirme - 1

1.  Merhaba! Ben Mustafa. Sekiz yaşındayım. 2. sınıfa gidiyorum. Saçlarım sarı, gözlerim ise yeşildir. Uzun boyluyum ve biraz kiloluyum. Bilgisayar oyunlarını ve müzik dinlemeyi severim. İleride bilgisayar mühendisi olmak istiyorum.

Aşağıdakilerden hangisi Mustafa'nın fiziksel özelliği değildir?

- A. Uzun boylu olması
B. Müzik dinlemeyi sevmesi
C. Gözlerinin yeşil olması
2. Aşağıdakilerden hangisi sınıf içinde uymamız gereken kurallardan biri değildir?
- A. Sınıfımızı temiz tutmak
B. Öğretmenimizden söz alarak konuşmak
C. Beslenmemizi arkadaşlarımızla paylaşmak

3. Aşağıdaki öğrencilerden hangisi okuldaki kaynakları özenli kullanmaktadır?

- A.  Sınıf kapısını hızlı kapatırım.
- B.  Açık gördüğüm muslukları kapatırım.
- C.  Sınıfın aydınlık olması için ışıkları hep açık tutarım.

Hakim Yayıncılık

4. Aşağıdakilerden hangisi arkadaşlarımızla ilişkilerimize zarar verecek bir duygudur?

- A. Bencillik
B. Anlayış
C. Saygı

5. Ayla ailesiyle birlikte okul alışverişine çıkmıştır. Ayla'nın bu alışverişte hangisini almasına ihtiyacı yoktur?

- A. Defter
B. Toka
C. Kalem

6. Aşağıdaki ifadelerden hangisi evde sorumluluk almak istemeyen bir çocuğa ait olabilir?

- A. Odamı ve çalışma masamı temiz ve düzenli tutarım.
- B. Annem yemeği hazırlarken ben ve kardeşim sofrayı kurarız.
- C. Çantamı hazırlamak ve kıyafetlerimi katlamak annemin sorumluluğundadır.

7. Aşağıdakilerden hangisi "dayımız" ile ilgili yanlış bir bilgidir?

- A. Anneannemizin oğludur.
- B. Babamızın erkek kardeşidir.
- C. Annemizin erkek kardeşidir.

8. Aşağıdaki besin gruplarından hangisi vücudumuzun onarılmasını, yaralarımızın iyileşmesini sağlar?

- A. Süt ve süt ürünleri
- B. Meyveler
- C. Yağlar

9. Aşağıdakilerden hangisini kişisel bakımımız için yaparız?

- A. Banyo yapmak
- B. Alışverişe gitmek
- C. Oyun oynamak

10. Aşağıdakilerden hangisi hayır dememizi gerektiren bir durumdur?

- A. Tanımadığımız bir kişinin bizi bir yere götürmek istemesi
- B. Okula gitmemiz için annemizin bizi erkenden kaldırması
- C. Akşam yemeği için pek sevmemiş olduğumuz bir yemek hazırlanması

11. Aşağıdakilerden hangisi çevre temizliğine önem veren, doğayı koruyan bir kişinin yapacağı bir harekettir?

- A. Kuşların ve karıncaların yuvalarını koruyup, ağaçlara zarar vermemek
- B. Piknik yaptıktan sonra etraftaki çöpleri toplamamak
- C. Ağaçlara yakın yerlerde ateş yakmak

12. Yüzümüzün kuzeye dönük olması için sağ kolumuzun hangi yönü göstermesi gerekir?

- A. Batı
- B. Güney
- C. Doğu

Genel Değerlendirme - 2

- ⇒ Yemeğimizi dökmeden yemek
⇒ Ağızımızda yemek varken konuşmamak.
⇒ Tabağımıza yiyeceğimiz kadar yemek almak.
Yukarıdaki kurallara aşağıdaki hallerden hangisinde uymamız gerekir?
A. Yemek yerken
B. Seyahat ederken
C. Temizlik yaparken
- Paten kayarken başımızı korumak için _____, dizlerimizi korumak için _____ takmalıyız.
Yukarıdaki noktalı yerlere sırasıyla hangi ifadeler gelmelidir?
A. başlık, dirseklik
B. kask, dizlik
C. şapka, eldiven
- Ahmet'in dişi ağrıaktadır. Ahmet aşağıdaki sağlık kurumlarından hangisine gitmelidir?
A. Toplum sağlığı merkezi
B. Ağız ve diş sağlığı merkezi
C. Eczane

- Aşağıdakilerden hangisi oyun oynarken güvenli olabileceğimiz yerlerdendir?
A. Su kanalları
B. Yol kenarları
C. Oyun parkları
- Daha az ağaç kullanılması için hangi atığın geri dönüştürülmesi gerekir?
A. Plastik şişeler
B. Kullanılmış kağıt, gazeteler
C. Tencere ve tavalar
- Aşağıdakilerden hangisi bir teknolojik alet değildir?
A. Telefon
B. Ütü
C. Kitap
- Aşağıdaki teknolojik aletlerden hangisi pille çalışır?
A. Ütü
B. Tablet
C. Fırın

8. Aşağıdakilerden hangisi tanıdıklarımızla karşılaştığımızda gösterdiğimiz davranışlardan biri değildir?

- A. Güler yüzlü davranmak
- B. Yardım istediğinde yardım etmek
- C. Selam vermemek ve konuşmamak

9. Servisle seyahat eden bir çocuğun aşağıdaki davranışlarından hangisi tehlikeli olabilir?

- A. Emniyet kemerini takması
- B. Hareket halindeyken araçtan inmesi
- C. Yolculuk sırasında yerinde oturması

10. Deprem ile ilgili aşağıdaki bilgilerden hangisi doğrudur?

- A. Depremi önlemek için boş araziler açlandırılmalıdır.
- B. Depremi ne zaman olacağını bilemeyiz.
- C. Deprem yoğun yağmur yağması sonucunda oluşur.

11. Aşağıdakilerden hangisi yardım istememizi gerektiren acil bir durum değildir?

- A. Elektrik kesintisi
- B. Yangın
- C. Trafik kazası

12. ❖ Bazı hayvanlar beslenmeden de yaşayabilirler.

- ❖ Deprem, çığ, heyelan, sel doğal afettir.
- ❖ Atıkların geri dönüştürülebilmesi için çöplerimizi ayrıştırmalıyız.
- ❖ Zorda kalan hayvanlarla ilgilenmemeliyiz.
- ❖ Dini bayramlarda okullarda törenler yaparız, sınıflarımızı süsleriz.
- ❖ Bayramlar; yardımlaşma, birlik ve beraberlik duygularını güçlendirirler.

Yukarıda verilen bilgilerden kaç tanesi doğrudur?

- A. 3
- B. 4
- C. 5

Genel Değerlendirme - 3

1. Aşağıdaki davranışlardan hangisi temizlik ve hijyen kurallarına uymaz?

- A. Tuvaletten çıktıktan sonra elleri yıkamak.
- B. Dışarıda dolaştığımız ayakkabılarımızı evde de giymek.
- C. Öksürürken veya hapşırırken ağızımızı mendille kapatmak.

3. Kablosu hasar görmüş bir aleti kullandığımızda;

- alet bozulabilir.
- ▲ yangın çıkabilir.
- elektrik çarpabilir.

Yukarıdakilerden hangileri doğrudur?

- A. ■ ▲ ●
- B. ■ ▲
- C. ● ▲

2. ☞ Havanın temizlenmesine yardımcı olur.

☞ Verimli toprakların taşınmasını engeller.

☞ Bulunduğu bölge daha çok yağış alır.

Yukarıda sayılan faydalar aşağıdakilerden hangisine aittir?

- A. Güneş
- B. Ağaç
- C. Hayvan

4. ★ Tablet

- ★ Paten
- ★ Kaykay
- ★ Oyun konsolu
- ★ Bisiklet
- ★ Lego

Yukarıdaki oyun araçlarından hangilerini kullanırken, kask takmamız gerekir?

- A. ★ ★ ★
- B. ★ ★ ★
- C. ★ ★ ★

5. Fırın, ocak gibi ateş veren araçları;

Yukarıdaki cümle aşağıdakilerden hangisiyle tamamlanırsa doğru olur?

- A. kendi başımıza yemek ısıtmak için kullanabiliriz.
- B. büyüklerimizden yardım almadan kullanmamalıyız.
- C. eldiven takarak büyüklerimiz olmadan kullanabiliriz.

6. Bayrak töreninde bayrağımıza İstiklal Marşı'mıza saygımızı aşağıdakilerden hangisi ile gösteririz?

- A. Hazır ol durumunda bekleyerek.
- B. Şarkı söyleyerek
- C. Etrafı seyrederek

7. Kaza, kalp krizi, bayılma gibi durumlarda aşağıdaki acil durum numaralarından hangisini aramalıyız?

- A. 110
- B. 112
- C. 122

8. Sağlıklı büyüme ve gelişmemizde aşağıdakilerden hangisinin olumlu bir etkisi yoktur?

- A. Düzenli spor yapmak
- B. Temizliğimize dikkat etmek
- C. Bilgisayar oyunu oynamak

9. Aşağıdaki atasözlerinden hangisi dayanışmayı ifade eder?

- A. Bir elin nesi var, iki elin sesi var.
- B. Ak akçe kara gün içindir.
- C. Aslan yatağından belli olur.

10. Süt ve sütün yapılmış yiyecekler kemiklerimizi güçlendirir, boyumuzun uzamasını sağlar. Aşağıdakilerden hangisi bu ürünlerden biri değildir?

- A. Peynir
- B. Tereyağı
- C. Nohut

11. Aşağıdaki bilgilerden hangisi doğrudur?

- A. Evimizdeki bütün işleri anne ve babamız yapmalıdır.
- B. Kişisel eşyalarımızı özenli kullanmamız gerekir.
- C. İsteklerimize öncelik verirsek, aile bütçesine katkıda bulunmuş oluruz.