


## Ürettiklerimiz


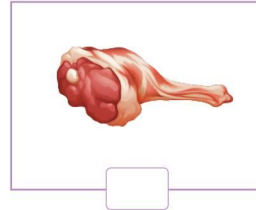




1. Aşağıdaki bilgilerden doğru olanları için "D" yazılı kutucuğu, yanlış olanları için "Y" yazılı kutucuğu boyayalım ya da işaretleyelim.

<input type="radio"/> İnsanların isteklerini ve ihtiyaçlarını karşılamak için yapılan faaliyetlere üretim denir.	D	Y
<input type="radio"/> Tarım, hayvancılık ve sanayi başlıca üretim alanlarıdır.	D	Y
<input type="radio"/> Ülkemiz tarım ürünlerinin yetişmesi için uygun özelliklere sahip değildir.	D	Y
<input type="radio"/> Ülkemizde inek, koyun, keçi, at ve tavuk gibi hayvanların yetiştiriciliği yapılmaktadır.	D	Y
<input type="radio"/> Elektrikli aletler, mobilya, tekstil, gıda ve ilaç üretme faaliyetleri sanayi alanındadır.	D	Y
<input type="radio"/> Ülkemizin her bölgesinde aynı tarım ürünleri üretilmektedir.	D	Y
<input type="radio"/> Sanayi faaliyetleri genellikle şehirlerde ya da şehre yakın alanlarda yapılmaktadır.	D	Y


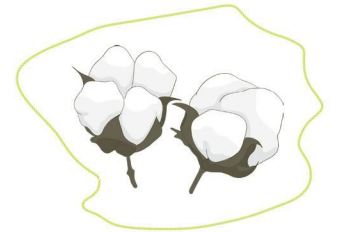
2. Aşağıdaki fotoğrafları inceleyelim. Hangi üretim faaliyetine (tarım, hayvancılık, sanayi) ait olduğunu altlarına yazalım.



3. Aşağıdakilerden tarım ürünü olanlara "T", hayvansal ürün olanlara "H", sanayi ürünü olanlara "S" yazalım.

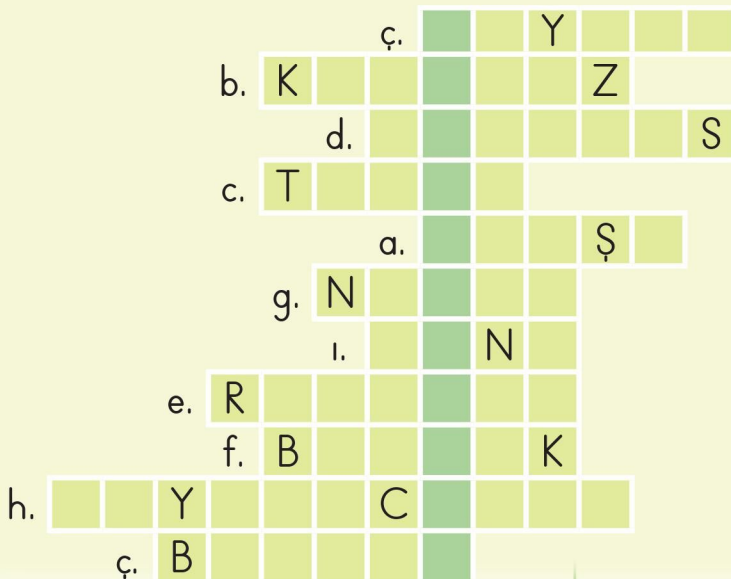


4. Aşağıda verilen ürünlerin işlendikten sonra hangi ürünün üretildiğini eşleştirerek gösterelim.



## Öğrendiklerimizi Pekiştirelim - 5

1. Aşağıdaki boşlukları uygun kelimelerle dolduralım. Bulduğumuz kelimeleri bulmacaya yazarak bilmecenin cevabını bulalım.
- a. Bayrağımız ve İstiklal ..... 'mız bağımsızlığımızı ve özgürlüğümüzü temsil eder.
- b. Gölge oyununun kahramanları olan ..... ve Hacivat, kültürel değerlerimizdendir.
- c. Meyveler, sebzeler, tahıllar ..... faaliyetleri sonucunda elde edilen ürünlerdendir.
- ç. .... töreninde İstiklal Marşı'mızı coşkuyla söyler, hazır ol durumunda bekleriz.
- d. Kurtuluş savaşının kazanıldığı, düşmanın yurdumuzdan kovulduğu günün anısına 30 ..... Zafer Bayramı'nı kutlarız.
- e. Tüm müslümanlar tarafından, Ramazan ayı sonunda kutlanan bayram ..... bayramıdır.
- f. Bayramlar, milli ..... ve beraberlik duygusunu güçlendiren özel günlerdir.
- g. Türkiye Büyük Millet Meclisi 23 ..... günü açıldı.
- h. Tarım, ..... ve sanayi gibi üretim faaliyetleri, insanların ihtiyaçlarının karşılanması için yapılır.
- ı. .... gecesi Türk kültürüne ait bir değerdir.



Türk bayrağı ve  
İstiklal Marşı'mız  
neyin sembolüdür?





## Ünite Değerlendirme - 5

1. Ülkemizin başkenti aşağıdakilerden hangisidir?
  - A. İstanbul
  - B. İzmir
  - C. Ankara
2. Aşağıdakilerden hangisi bağımsızlığımızın ve özgürlüğümüzün sembolü değildir?
  - A. Bayrağımız
  - B. Okulumuz
  - C. İstiklal Marşımız
3. İstiklal Marşı'mızın yazarı aşağıdakilerden hangisidir?
  - A. Mustafa Kemal Atatürk
  - B. Ali Rıza Bey
  - C. Mehmet Akif Ersoy
4. Aşağıdakilerden hangisi milli gün ve bayramların kutlanmasının sağladığı bir faydadır?
  - A. Milli birlik ve beraberliğimizi sağlaması
  - B. Tatil olması
  - C. Eğlenceler düzenlenmesi
5. Aşağıdakilerden hangisi milli bir bayramdır?
  - A. Ramazan Bayramı
  - B. Cumhuriyet Bayramı
  - C. Kurban Bayramı
6. Aşağıdakilerden hangisi milli bayramlarda yapılan hazırlıklardan değildir?
  - A. Evlerin temizlenmesi
  - B. Sınıfça gösteriler hazırlanması
  - C. Aile büyükleri ve akrabaların ziyaret edilmesi
7. TBMM'nin açıldığı gün hangi bayramı kutlarız?
  - A. 30 Ağustos Zafer Bayramı
  - B. 23 Nisan Ulusal Egemenlik ve Çocuk Bayramı
  - C. 19 Mayıs Atatürk'ü Anma Gençlik ve Spor Bayramı
8. Aşağıdaki tarihlerden hangisinde Cumhuriyet Bayramı'nı kutlarız?
  - A. 23 Nisan
  - B. 19 Mayıs
  - C. 29 Ekim

9. Dini bayramlar aşağıdaki duygulardan hangilerinin pekişmesi için önemlidir?

- A. Paylaşma ve dayanışma
- B. Hüzün ve korku
- C. Ayrılık ve nefret

10. Aşağıdakilerden hangisi bir üretim faaliyeti değildir?

- A. Turizm
- B. Tarım
- C. Hayvancılık

11.



Yukarıda gösterilen halk oyunu aşağıdakilerden hangisidir?

- A. Halay
- B. Zeybey
- C. Horon

12. Aşağıdakilerden hangisi Türk kültürüne ait değildir?

- A. Kına gecesi
- B. Sünnet düğünü
- C. Paskalya

13. Aşağıdakilerden hangisi tarım faaliyetleri sonucu elde edilen bir ürün değildir?

- A. Elma
- B. Portakal
- C. İlaç

14. Ulusal bayramlar ve resmi tatiller bayrak töreniyle başlar. Bayrak töreni yapılırken hangisi gibi davranmalıyız ?

- A. Sıra arkadaşımızla sessizce konuşmalıyız.
- B. Hazır ol duruşunda, İstiklal Marşı'mızı söylemeliyiz.
- C. Sessizce etrafı seyretmeliyiz.

15. Atatürk'ün çocuklara hediye ettiği bayramı hangi gün kutlarız?

- A. 19 Mayıs
- B. 29 Ekim
- C. 23 Nisan

16. Aşağıdaki bayramlardan hangisinde kurban kesenler ihtiyaç sahiplerine et dağıtırlar?

- A. Kurban Bayramı
- B. Ramazan Bayramı
- C. Cumhuriyet Bayramı

## Bitkiler ve Hayvanlar Nasıl Yaşar?

1. Aşağıdaki bilgilerden doğru olanlarını işaretleyelim.

- Güneş bitkilerin büyümesi için şarttır.
- Bitkiler büyüdükten sonra suya ihtiyaç duymaz.
- Bitkiler tohumdan veya bitki soğanından çimlenerek büyürler.
- Bitkilerin büyümesi için ısı hava ve su gereklidir.
- Bütün bitkiler aynı derecede ısıya ihtiyaç duyarlar.
- Bitkiler toprakta yetişirler. Kökleriyle topraktan su ve gerekli besinleri alırlar.
- Her bitki aynı ortamda yetişebilir.
- Bitkilerin iyi gelişebilmesi için çok fazla güneş ışığında kalmaları gerekir.

2. Aşağıdaki resimde çocuklar fidan dikmek için hazırlık yapıyorlar. Çocukların, fidanların sağlıklı büyümesi için yapması gereken üç şey yazalım.



a. \_\_\_\_\_  
b. \_\_\_\_\_  
c. \_\_\_\_\_

3. Şule beslemek için bir muhabbet kuşu almıştır. Şule'nin kuşunun bakımını yaparken dikkat etmesi gereken üç şey yazalım.



a. \_\_\_\_\_  
b. \_\_\_\_\_  
c. \_\_\_\_\_

4. Aşağıdaki cümlelerdeki boşlukları uygun ifadelerle tamamlayalım.



- ♥ Hayvanlar yaşayabilmek için temiz \_\_\_\_\_, su ve besine ihtiyaç duyarlar.
- ♥ Her hayvanın \_\_\_\_\_ şekli farklıdır.
- ♥ Karada yaşayan hayvanlar, insanlar gibi \_\_\_\_\_ soluyarak yaşarlar.
- ♥ \_\_\_\_\_ hayvanlar besin ihtiyaçlarını karşılamak için avlanırlar.
- ♥ Hayvanların doğada yaşayabilmeleri için; yeşil alanları \_\_\_\_\_ ve çoğaltmalıyız.
- ♥ \_\_\_\_\_ hayvanların ihtiyaçları insanlar tarafından karşılanır.
- ♥ Yeterince beslenemeyen hayvanlar \_\_\_\_\_ ve ölürler.

5. Aşağıda bir bitkinin oluşum aşamalarının karışık olarak verildiği resimleri inceleyelim. Bir tohumun büyürken hangi aşamalardan geçtiğini sırasıyla yazalım.

