

Çevremizdeki Hayvanlar


1. Aşağıda verilen hayvanlardan evcil olanları yuvarlak içine alalım.




2. Aşağıda verilen hayvanları barındıkları yerlerle eşleştirelim.



3. Aşağıda isimleri verilen hayvanların ne ile beslendiklerini yanlarına yazalım.

 Tavşan: _____

 Güvercin: _____

 İnek: _____

 Maymun: _____

 Koyun: _____

 Kedi: _____

4. Aşağıdaki hayvanların türlerinin verilenlerden hangisi olduğunu örnekteki gibi noktalı yerlere yazalım.

kuş

balık

sürüngen

böcek



karınca
böcek



arı



papağan



melek balığı



kaplumbağa



güvercin


Çevremizdeki Bitkiler

1. Aşağıdaki boşlukları uygun ifadelerle dolduralım.

Bahçe bitkileri

Ağaçlar

Yabani bitkiler

 canlılar için hem yuva hem de besin kaynağıdır. Soluduğumuz havayı temizler.


 doğada kendiliğinden yetişen ve çevremizi süsleyen bitkilerdir.

 insanlar tarafından yetiştirilen ve genellikle besin olarak tüketilen bitkilerdir.


2. Aşağıdaki çocuklardan bitkilerle ilgili doğru bilgi verenleri işaretleyelim.



Bitkiler büyümmezler. Her zaman aynı şekilde kalırlar.



Bitkiler yıl içinde mevsimlere göre değişiklik gösterir. İlkbaharda çiçek açar, sonbaharda ise yapraklarını dökerler.



Bitkilerin bazılarında süs olarak, bazılarında da besin olarak faydalanırız.

3. Aşağıdaki bitki türlerine beşer tane örnek yazalım.

Ağaç

Elma ağacı

☞ _____

☞ _____

☞ _____

☞ _____

☞ _____

Bahçe Bitkisi

Lale

☞ _____

☞ _____

☞ _____

☞ _____

☞ _____

Yabani Bitki

Dağ kekiği

☞ _____


☞ _____

☞ _____

☞ _____

☞ _____

4. Aşağıda bir çiçeğin büyüme şeması verilmiştir. Verilen resimleri büyüme sırasına göre numaralandırarak sıralayalım.



5. Yukarıdaki resimden faydalanarak, bir bitkinin büyürken hangi aşamalardan geçtiğini birkaç cümle ile yazalım.

☞ _____
