
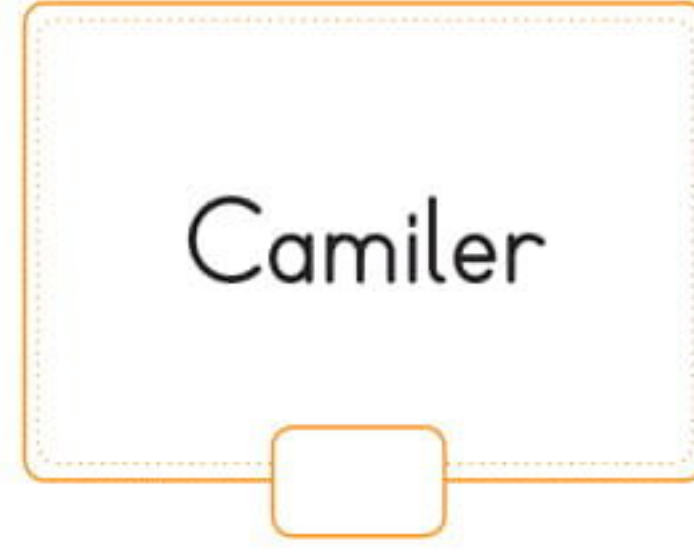
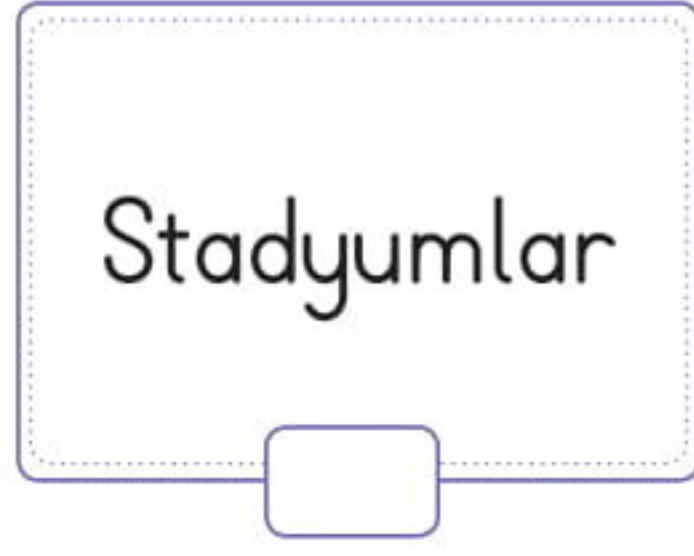
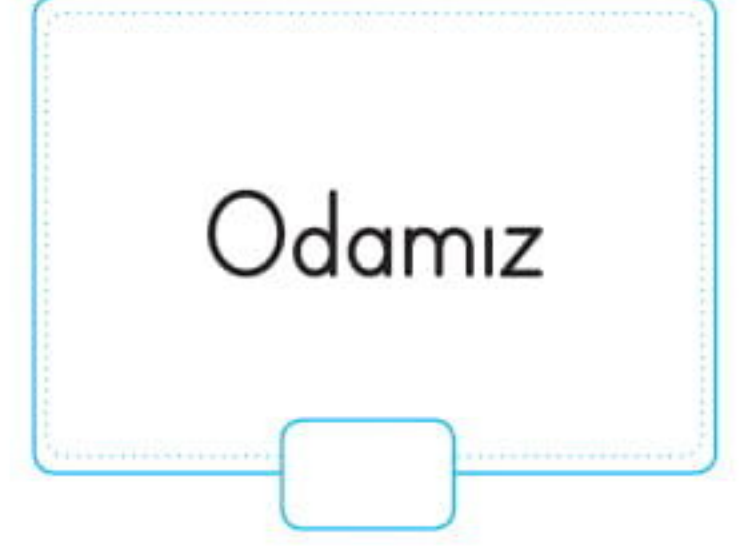
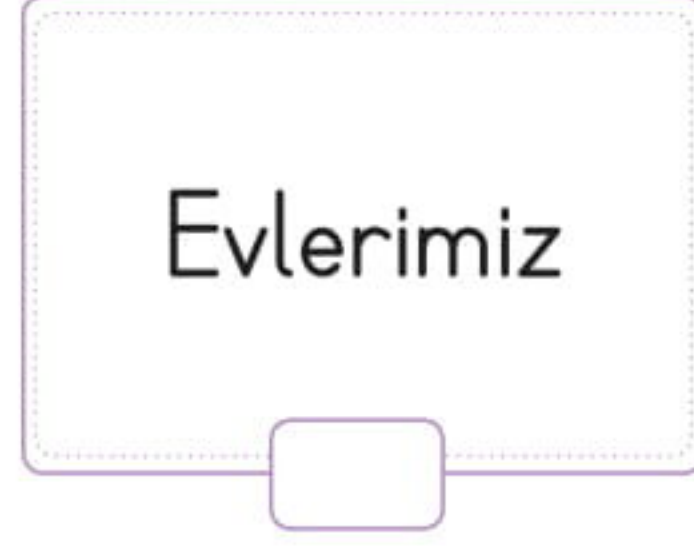


## Ortak Kullanım Alanları ve Araçları

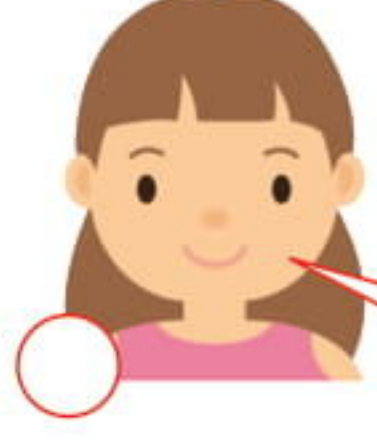
1. Aşağıda verilenlerden devlete ait ortak kullanım alanlarını işaretleyelim.



2. Aşağıdaki cümlelerden doğru olanların başına "D", yanlış olanların başına "Y" yazalım.

- Ortak kullanım alanlarını sadece Türk vatandaşları kullanabilir.
- Toplu taşıma araçlarını kullanırken, birbirimize saygılı davranmalıyız.
- Otobüs duraklarına resim yapıştırarak süsleme yapmalıyız.
- Stadyumlarda, spor salonlarında, parklarda bulunan araçlara zarar vermemeliyiz.
- Camilerdeki tespihleri ve kitapları ödünç alarak evimize götürebiliriz.
- Hastaneler, otobüs durakları, okullar ortak kullanım alanlarındandır.
- Okulumuzdaki ve oyun alanlarındaki banklara ismimizi yazabiliriz.
- Sınıfımıza girip çıkarken sınıf kapısını yavaş açıp, kapatmalıyız.
- Sınıfımızda kendi oturduğumuz sırayı istediğimiz gibi boyayabiliriz.

3. Aşağıdaki çocuklardan ortak kullanım alanlarının yanlış kullanımına ilişkin örnek verenleri işaretleyelim.



Arkadaşlarımla birlikte parka gittiğimizde, hatıra kalması için ismimizi banklara kazırız.




Okuldaki bazı arkadaşlarım sinirlendiğinde, sınıfın kapısını hızlı kapatıp, tekmeliyorlar.



Bazen televizyonda insanların stadyumlardaki oturma yerlerini birbirlerine attıklarını görüyorum.



Arkadaşlarımla birlikte okulumuzun kenarlarındaki yeşil alanlarda piknik yapıyoruz, çiçekleri suluyoruz.



Toplu taşıma araçlarına binerken her zaman sıramı bekliyorum. Oturduğum yerleri temiz tutuyorum.

4. Bu etkinlikte öğrendiklerimizden başka bildiğimiz ortak kullanım alanlarını yazalım.

5. Ortak kullanım alanlarının yanlış kullanımına ilişkin bir örnek de biz verelim.

.....

.....

.....

## Öğrendiklerimizi Pekiştirelim - 7

1. Aşağıdakilerden hangisi ilçenin en yetkili kişisidir?

- A. Kaymakam
- B. Belediye Başkanı
- C. Muhtar

2. ● Muhtar

▲ Belediye başkanı

★ Vali

■ Kaymakam

Yukarıdaki yöneticilerden hangileri seçimle iş başına gelmektedir?

- A. ★ ve ■
- B. ▲ ve ■
- C. ● ve ▲

3. Aşağıdakilerden hangisi ülkemizin yönetim şeklidir?

- A. Demokrasi
- B. Cumhuriyet
- C. Muhtarlık

4. Aşağıdakilerden hangisi Cumhuriyetle birlikte gerçekleşmemiştir?

- A. Kadınlara seçme ve seçilme hakkının tanınması
- B. İnsanların çalışarak para kazanabilmesi
- C. Kadın ve erkeğin eşit haklara sahip olması

5. Aşağıda verilenlerden hangisi ülkemizin doğal güzelliklerindedir?

- A. Topkapı Sarayı
- B. Kız Kulesi
- C. Balıklı Göl

6. Aşağıdaki doğal güzelliklerden hangisi Antalya ilimizdedir?

- A. Balıklı Göl
- B. Ölüdeniz
- C. Düden Şelalesi

7. ● Ayasofya Camii

▲ Peri Bacaları

★ Pamukkale travertenleri

■ Safranbolu Evleri

Yukarıda verilenlerden hangileri ülkemizdeki tarihi eserlerdendir?

A. ● ve ▲

B. ▲ ve ★

C. ● ve ■

8. Aşağıdakilerden hangisi vatandaşlık görevlerimizdendir?

A. Derslerimize çalışmak

B. Komşularımızla iyi geçinmek

C. Oy kullanmak

9. Aşağıdakilerden hangisi görev ve sorumluluklarını yerine getiren bir bireyin yapacağı davranışlardan biri değildir?

A. Kaynakları bilinçli kullanmak

B. Devlet mallarına zarar vermemek

C. Çevresine zarar verenleri cezalandırmak

10. Aşağıdaki ifadelerden hangisi doğrudur?

A. Hastane, okul, cami gibi ortak kullanım alanlarındaki araçlara zarar vermemeliyiz.

B. Parktaki oyuncakları kullanmak için diğer çocuklarla kavga etmeliyiz.

C. Okuldaki eşyalara zarar veren arkadaşlarımıza karşı kaba kuvvet kullanmalıyız.

11. ● Hastaneler

▲ Spor salonları

★ Evimizin bahçesi

■ Camiler

♥ Odamız

Yukarıdaki yerlerden hangileri devlete ait ortak kullanım alanlarından değildir?

A. ● ve ■

B. ♥ ve ★

C. ■ ve ▲