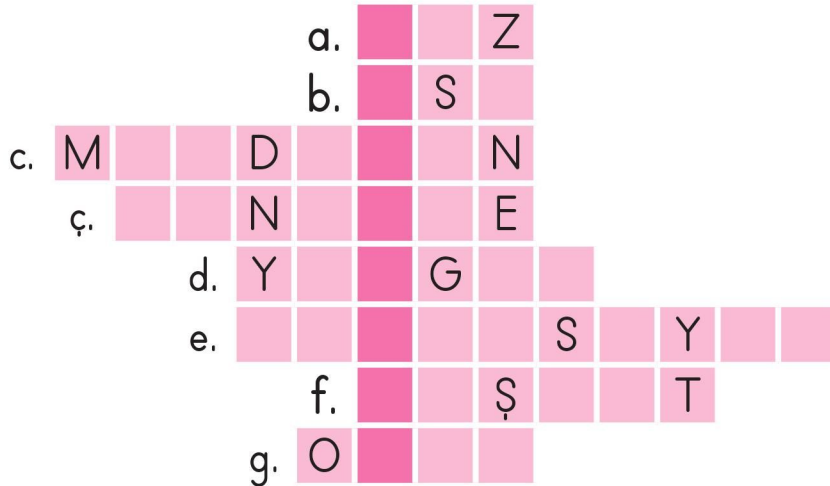
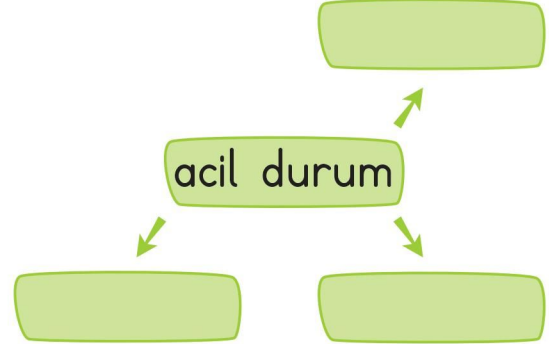
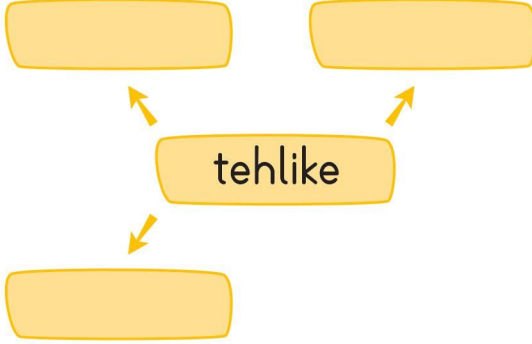


## Ünite Değerlendirme - Etkinlik

1. Aşağıdaki boşlukları uygun kelimelerle dolduralım. Bulduğumuz kelimeleri bulmacaya yazarak gizli kelimeyi bulalım.
- a. .... kaçağı olduğunda aramamız gereken acil durum numarası 1-8-7'dir.
- b. Karşıdan karşıya geçerken alt ve ..... geçitleri kullanmak güvenlidir.
- c. .... den inip çıkarken koşarsak yaralanabiliriz.
- ç. .... ve balkonlardan sarkmamalıyız.
- d. .... durumunda aramamız gereken acil durum numarası 1-1-0'dır.
- e. .... oyunlarını fazla oynamak bağımlılığa neden olur.
- f. Merdiven boşluğu, ..... alanları, asansörler güvenli olmayan oyun alanlarıdır.
- g. .... ve ev bahçesi, parklar güvenli oyun alanlarıdır.



2. Aşağıdaki kutucuklara, verilen kelimelerin bize çağrıştırdığı üçer kelime yazalım.



3. Aşağıda verilen cümlelerden bazıları doğru, bazıları yanlıştır. Hediye kutusunun olduğu cümleden başlayarak, okları takip edelim. Hediye nin hangi çocuğun olduğunu bulalım.



Islak zeminlerde koşmamalıyız.

D

Y

Deterjanlara dokunmamız sakıncalı değildir.

D

Y

Asansöre binmeden önce kapının tamamen açılmasını beklemeliyiz.

D

Y

Elektrik kabloları ve prizlerle oynamak tehlikelidir.

D

Y

Duran araçların önünden ve arkasından geçmemeliyiz.

D

Y

Polis imdat acil durum numarası 1-1-2'dir.

D

Y

Binaların bodrum katında oyun oynamak güvenli değildir.

D

Y



## Ünite Değerlendirme - 3

1. Aşağıdaki davranışlardan hangisi güvenliğimizi tehlikeye sokar?

- A. Islak zeminlerde yavaş yürümek.
- B. Pencerelerden sarkmak
- C. Deterjanlardan uzak durmak.

2. ★ Ateşle oynamak

- Yüksek bir yerden eşya almak için tırmanmak
- ▲ Çalışma masasını düzenlemek
- Elektrik kablolarıyla oynamak

Yukarıdakilerden hangilerini yaparsak zarar görebiliriz?

- A. ■ ● ▲
- B. ● ▲ ★
- C. ★ ● ■

3. Necip aşağıdakilerden hangisini yaparsa yaralanabilir?

- A. Merdivenlerden koşarak inmek
- B. Televizyon seyretmek
- C. Ellerini yıkamak

4. Doğalgaz kaçağı olduğunda aşağıdaki acil durum numaralarından hangisini aramalıyız?

- A. 1-1-0
- B. 1-5-5
- C. 1-8-7

5. Mehmet okula giderken karşıdan karşıya geçmek için nasıl davranırsa güvenli bir geçiş yapmış olmaz?


- A. Üst geçit kullanmak
- B. Trafik polisinin olduğu yerlerden geçmek
- C. Sağa sola bakmadan koşarak geçmek


6. Burcu ve babası akşam etmek almak için dışarı çıktılar. Sürücülerin kendilerini görmeleri için Burcu ve babasının nasıl davranması gerekir?

- A. Kaldırımın solundan yürümeleri
- B. El feneri taşımaları
- C. Bisiklete binmeleri

7. Aşağıdaki çocuklardan hangisinin davranışı yanlıştır?

A.  İnternette tanıştığım herkese ev adresimi veririm.

B.  Tanımadığım biri bana şeker verirse kabul etmem.

C.  Yabancılarla konuşmam ve bir yere gitmem.

8.



Yukarıdaki trafik levhasının anlamı hangisinde doğru verilmiştir?

- A. Mecburi bisiklet yolu
- B. Bisiklet giremez
- C. Yaya giremez

Hâkim Yayıncılık

9. 110

112


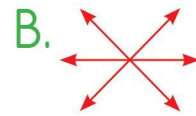
155

Polis İmdat

Ambulans

İtfaiye

Yukarıdaki acil durum numaraları eşleştirildiğinde oluşan şekil aşağıdakilerden hangisi gibi olur?



## Yaşadığımız Yer

1. Aşağıda verilen yerleşim yerlerini büyükten küçüğe doğru sıralayarak yazalım.

İlçe

Köy

İl

Kasaba

....., ....., ....., .....

2. Aşağıdaki öğrencilerin hangi yerleşim yerini anlattıklarını noktalı yerlere yazalım.



Köy ve kasabalardan büyük, illerden küçük yerleşim yerine ..... denir.

Az sayıda insanın yaşadığı, daha çok tarım ve hayvancılıkla uğraşılan en küçük yerleşim birimlerine ..... denir.



Sanayi ve ticaretin geliştiği, çok sayıda insanın yaşadığı en büyük yerleşim birimine ..... denir.

İl ve ilçeden küçük, köyden ise büyük yerleşim yerine ..... denir.



## 3. Aşağıdaki paragrafı okuyalım. Soruları cevaplayalım.



Merhaba. Ben Ayşe. Çorum ilinin, Sungurlu ilçesinde yaşıyorum. Çorum'da buğday, arpa, pirinç, nohut, soğan gibi tarım ürünleri yetiştiriliyor. Ayrıca koyun ve keçi gibi hayvanlar da besleniyor. Çorum'un en meşhur ürünü ise leblebi.

a. Ayşe, nerede yaşıyormuş?

b. Çorum'da hangi tarım ürünleri yetiştiriliyormuş?

## 4. Aşağıdaki noktalı yerleri yaşadığımız yerin özelliklerine göre dolduralım.

Yaşadığım İl	:	
Yaşadığım İlçe	:	
Yaşadığım Köy	:	
Yaşadığım Mahalle	:	
Yaşadığım yerde yetişen ürünler	:	
Yaşadığım yerde beslenen hayvanlar	:	