


1.SINIF 1.DÖNEM GENEL TEKRAR ÇALIŞMASI 32 SAYFA

Akıllım 2. Sınıf Set



Haydi Başlayalım!



☞ Gürbüz ailesi yarıyıl tatilinde Nevşehir'e gittiler. Haydi onları sıcak hava balonuna ulaştıralım ve eğlenceye başlayalım.




- 📌 Ece'nin odasını inceleyelim ve cümlelerdeki boşlukları yer ve yön bildiren ifadelerden (altında - üstünde, etrafında - sol - sağ - arasında - önünde - arkasında, yüksekte - alçakta, uzak - yakın, içinde - dışında) uygun olanıyla tamamlayalım.



- ➡ Ece, annesinin _____ dir.
- ➡ Fotoğraf makinesi, oyuncak ayıyla kitapların _____ dir.
- ➡ Robot, oyuncak ayının _____ dir.
- ➡ Tavşan yorganın _____, yeşil dinozor yorganın _____ dir.
- ➡ Mavi dinozorun, _____ tarafında şeker kavanozu, _____ tarafında sarı dinozor vardır.
- ➡ Oyuncak bebek, Ece'nin annesinin _____ dir.
- ➡ Ece, annesine _____, yatağa _____ tır.
- ➡ Şekerler kavanozun _____ dir.

TÜRKÇE


➔ Alfabemiz yazılırken bazı harflerin yeri karıştırılmış. Yerleri karıştırılan harfleri örnekteki gibi gösterelim.










➔ Aşağıdaki her bir buluta harfleri karışık olarak verilmiş harfler asılmıştır. Kelimeleri bularak bulutların üzerine yazalım.









➤ Aşağıda verilen resimlerin eşlerini bulalım ve yanlarında yazan harfi cevap kısmına yazalım.

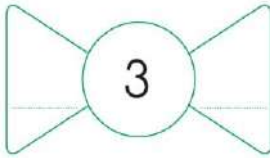
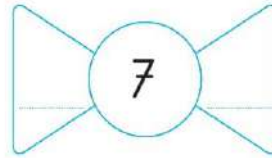
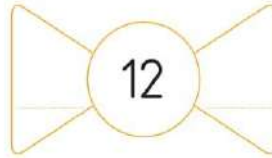
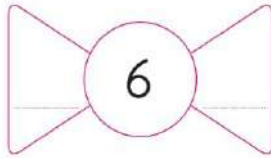
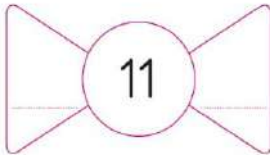
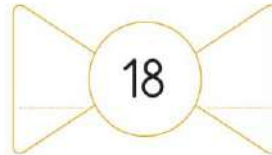
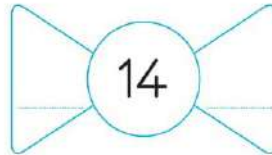
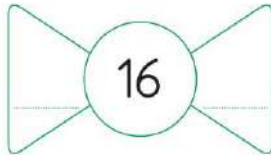
 Cevap:

A. 	B. 
C. 	D. 
E. 	F. 

 Cevap:

A. 	B. 
C. 	D. 
E. 	F. 

➤ Aşağıda verilen sayıların bir öncesinde ve bir sonrasında gelen sayıları noktalı yerlere yazalım.

 3	 7	 12	 6
 11	 18	 14	 16

TÜRKÇE

⇒ Aşağıdaki varlıkların isimlerini heceleyerek noktalı yerlere, kelimelerin kaç heceden oluştuğunu da yuvarlakların içine yazalım.



a-ra-ba

3



Hakim Yayıncılık

HAYAT BİLGİSİ

⇒ Esra ve Cemile ikiz kardeşler. Onların benzer özellikleri çok ama farklı özellikleri de var. Kardeşlerle ilgili aşağıda verilen bilgilerden doğru olanların başına 😊 çizelim.



- Her ikisi de mavi gözlüdür.
- Cemile, Esra'dan şişmandır.
- Cemile'nin saçları kıvrıkcık, Esra'nın saçları düzdür.
- Saçlarının rengi aynıdır.
- Her ikisi de tekerlekli sandalye kullanmaktadır.

➤ Aşağıdaki dondurmaların üzerindeki boşlukları, külahların altında yazan miktarda ritmik sayma yaparak dolduralım.



İleriye
beşer

İleriye
birer

İleriye
onar


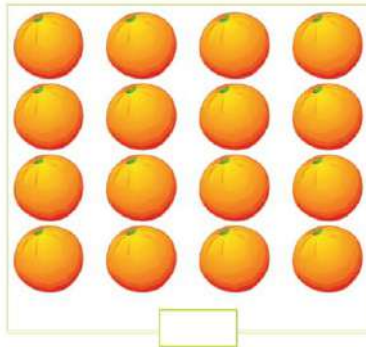
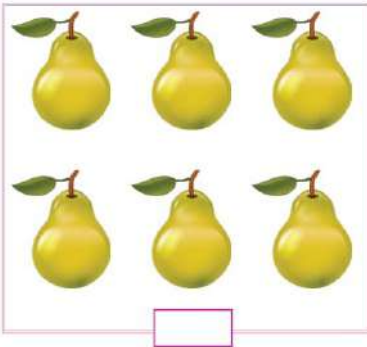
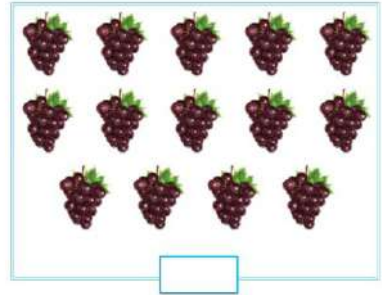

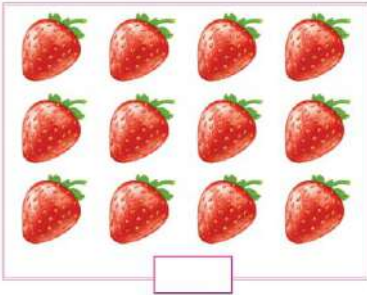
İleriye
ikişer

İleriye
ikişer

Geriye
ikişer

Geriye
ikişer

➤ Kutucuklardaki meyveleri sayalım. 10'dan az olanların altındaki kutucuğu maviye, 10'dan çok olanların altındaki kutucuğu kırmızıya boyayalım.



TÜRKÇE

➔ Aşağıdaki her bir satırda diğerlerine göre farklı olan kelimelerin olduğu kutucukları boyayalım.

kalem	defter	ayakkabı	kitap
biber	patlıcan	tabak	patates
gömlek	yatak	elbise	pantolon
çember	kare	üçgen	bahçe
balık	gül	karanfil	menekşe

➔ Aşağıdaki bilmeceleri cevaplayalım.

Altı kök, üstü meyve,
dalları bize gölge.

— ğ — ç

Akşam baktım çok idi,
sabah baktım yok idi.

— l — ı

HAYAT BİLGİSİ

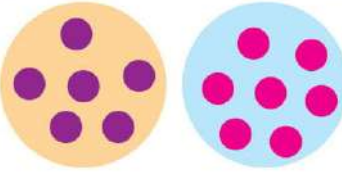
➔ Aşağıda verilen yerlerden okulda bulunanları işaretleyelim.

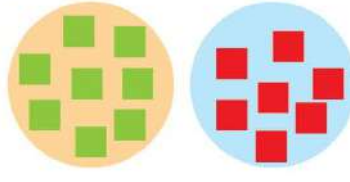



➤ Aşağıdaki örneği inceleyelim. Sarı dairelerde olan şekillerin sayısı, mavi dairelerde olanlardan fazla ise **daha çok**, az ise **daha az**, ikisi de aynı ise **eşit** yazalım.




daha çok







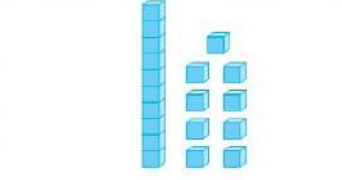




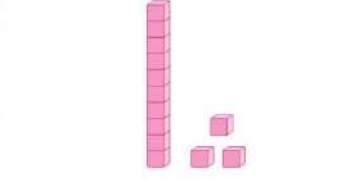
➤ Aşağıdaki örneği inceleyelim. Blokları sayalım. Onluk ve birliklerine ayırarak altlarına yazalım.



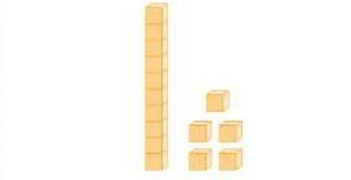
1 onluk 2 birlik
12



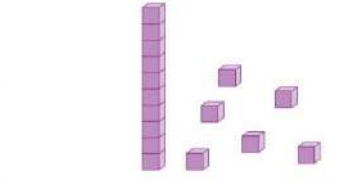
_____ onluk _____ birlik



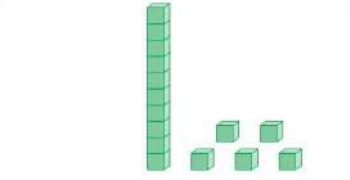
_____ onluk _____ birlik



_____ onluk _____ birlik



_____ onluk _____ birlik



_____ onluk _____ birlik

TÜRKÇE

⇒ Aşağıdaki cümlelerde geçen altı çizili kelimelerin zıt anlamlılarını boş kutulara yazalım.

☆ Küçük topları havuza koyarak diğerlerinden ayırdı.

☆ Genç adam bu soğukta incecik giyinmişti.

☆ Zor soruları bile doğru cevaplamış.

☆ Bu kalın tahtaları dolap yapmak için kullanamayız.

☆ Deterjanları koklamak sağlığımıza zarar verir.

☆ Yaramaz kedi ağacın dalına çıkmış.

☆ Yemekten önce ellerini yıkamalısın.

HAYAT BİLGİSİ

⇒ Aşağıdaki ifadelerden doğru olanların başına ✓, yanlış olanların başına ✗ koyalım.

Arkadaşlarımızla benzer özelliklerimiz yoktur.

Bedensel engeli olan arkadaşlarımızın kullandığı araçlara zarar vermemeliyiz.

Okula gidip gelirken kaldırımdan yürümeliyiz.

Servisle yolculuk yaparken ayakta durabiliriz.

Tanımadığımız kişilerle konuşmamalıyız.


Ders sırasında tuvalete gitmemiz gerekirse, öğretmenimizden izin istememiz gerekir.

➤ Aşağıdaki soruları cevaplayalım.




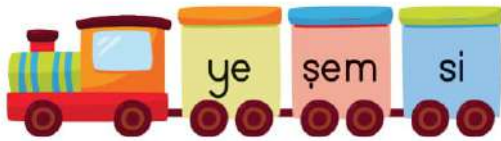
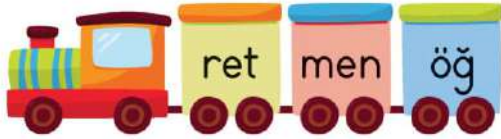

- Yukarıdaki kitaplardan 3., 5. ve 9. olanların üzerine örnekteki gibi sıra sayılarını yazalım.
- Kitaplardan 2. olanını maviye, 6. olanını kırmızıya, sonuncu olanını yeşile boyayalım.
- 1., 4. ve 7. sıradaki kitapların üzerine yıldız çizelim.
- Sondan 2. kitabın üzerine kare çizelim.

➤ Aşağıdaki toplama işlemlerini yapalım. Sonuçları aynı olanların elmaların yapraklarını aynı renge boyayalım.



TÜRKÇE

➔ Trenin vagonlarında karışık olarak verilen hecelerden anlamlı kelimeler türetelim.



➔ Yazımında yanlışlık yapılan kelimelerin olduğu bulutları boyayalım.








➔ Tekerlemeyi okuyalım.

SINIFLAR

Mini mini birler,
Çalışkandır ikiler,
Mavi gözlü üçler,
Dayak yiyen dörtler,
Misafirdir beşler,
Altılar, altınımı çaldılar,
Yediler, yemeğimi yediler,
Sekizler, semizdirler,
Dokuzlar, doktor oldu,
Onlar bizi okuttu.

BİRAZ DA EĞLENELİM

➤ Aşağıdaki her bir kutucukta verilen resimlerin gölgelerini bulalım ve cevaplarını altlarına yazalım.



Sudoku Çözelim

Tablolardaki her satırı, her sütunu ve her kutucuğu 1'den 4'e kadar olan sayıları tek bir defa kullanarak dolduralım.

	1		4
4	2	3	

1			
4	1	2	3
2	3	4	



	4		1
3		4	
1			4
	2	1	

3		2	4
	4	3	
4			3
	3	4	2

Tablolardaki her satırı, her sütunu ve her kutucuğu □, △, ○, ☆ şekillerini tek bir defa kullanarak dolduralım.




			△
	□		☆
☆		△	□
□	△		○


	○	☆	
△			
	△		□
	□		☆

Resim Çizelim

- ☞ Kareli kağıt üzerine çizili olan baykuşu tamamlayalım.
Sonra da boyayalım.



 Aşağıdaki resmi istediğimiz renkleri kullanarak boyayalım.



İKİ RESİM ARASINDAKİ 7 FARKI BULALIM



➤ Aşağıdaki toplama ve çıkarma işlemlerini yapalım. Bulutları sonuçları taşıyan çocukların ellerindeki kartla aynı renge boyayalım.

$$\begin{array}{r} 8 \\ + 2 \\ \hline \end{array}$$

$$\begin{array}{r} 10 \\ + 5 \\ \hline \end{array}$$

$$\begin{array}{r} 19 \\ + 1 \\ \hline \end{array}$$

$$\begin{array}{r} 4 \\ + 3 \\ \hline \end{array}$$

$$\begin{array}{r} 2 \\ + 2 \\ \hline \end{array}$$

$$\begin{array}{r} 14 \\ + 4 \\ \hline \end{array}$$

$$\begin{array}{r} 8 \\ + 7 \\ \hline \end{array}$$

$$\begin{array}{r} 7 \\ + 3 \\ \hline \end{array}$$

$$\begin{array}{r} 15 \\ + 5 \\ \hline \end{array}$$

$$\begin{array}{r} 12 \\ + 8 \\ \hline \end{array}$$

$$\begin{array}{r} 17 \\ - 13 \\ \hline \end{array}$$

$$\begin{array}{r} 20 \\ - 5 \\ \hline \end{array}$$

$$\begin{array}{r} 16 \\ - 6 \\ \hline \end{array}$$

$$\begin{array}{r} 13 \\ - 6 \\ \hline \end{array}$$

$$\begin{array}{r} 19 \\ - 1 \\ \hline \end{array}$$


$$\begin{array}{r} 11 \\ - 4 \\ \hline \end{array}$$

$$\begin{array}{r} 16 \\ - 12 \\ \hline \end{array}$$

$$\begin{array}{r} 13 \\ - 3 \\ \hline \end{array}$$




$$\begin{array}{r} 20 \\ - 2 \\ \hline \end{array}$$

$$\begin{array}{r} 8 \\ - 4 \\ \hline \end{array}$$



TÜRKÇE

- ⇒ Aşağıdaki cümlelerin sonuna getirilmesi gereken noktalama işaretlerinin bulunduğu kutucuğu örnekteki gibi işaretleyelim.

Cümleler			
Bahçeye çikalım mı			✓
Meryem de bu sokakta oturuyor			
Ah, ayağımı taşa çarptım			
Kaydıraftan kayarken düşüverdim			
Bugün neden geç kaldın			
Anneciğim, ben de gelebilir miyim			
Eyvah, süt taşı			

- ⇒ Aşağıdaki bilmeceleri cevabı olan görselle eşleştirelim.

Yedim bir kırmızı külah,
ağzım yandı vah vah



Bir kapılı, çok yapraklı,
içinde bilgi saklı



Sesi var canı yok,
konuşuyor ağzı yok



Boş gider dolu gelir
ağzıma bir hoş gelir



➤ Aşağıdaki toplama ve çıkarma işlemlerini yapalım. Sonuçları aynı olanları eşleştirelim.

$4 + 2 = \underline{\quad}$

$20 - 3 = \underline{\quad}$

$9 + 3 = \underline{\quad}$

$17 - 4 = \underline{\quad}$

$12 + 5 = \underline{\quad}$

$13 - 5 = \underline{\quad}$

$7 + 6 = \underline{\quad}$

$12 - 6 = \underline{\quad}$

$1 + 7 = \underline{\quad}$

$19 - 7 = \underline{\quad}$

➤ Aşağıdaki toplama işlemlerini yapalım. Toplamı diğerlerine göre daha büyük ve daha küçük olanları boyayalım.

$$\begin{array}{r} 13 \\ + 5 \\ \hline \end{array}$$

$$\begin{array}{r} 11 \\ + 8 \\ \hline \end{array}$$

$$\begin{array}{r} 9 \\ + 8 \\ \hline \end{array}$$

$$\begin{array}{r} 12 \\ + 4 \\ \hline \end{array}$$

TÜRKÇE

⇒ Aşağıda verilen sözcüklerden her zaman büyük harfle başlaması gerekenleri işaretleyelim.

fil

elif

terlik

çiçek

kız

günlük

sivas

canan

yağmur

pakize

kedi

erol

göz

doktor

istanbul

şapka

HAYAT BİLGİSİ

⇒ Aşağıda akrabalık ifade eden kavramları işaretleyelim.

anne

öğretmen

komşu

kardeş

müdür

baba

babaanne

dede

⇒ Aşağıdaki noktalı yerleri uygun akrabalık sözcükleriyle dolduralım.

→ Annemizin annesine deriz.

→ Babamızın babasına deriz.

→ Büyük erkek kardeşimize deriz.

→ Annemizin babasına deriz.

➤ Aşağıdaki sıralı işlemleri yapalım ve şifreyi çözelim.

$$\begin{array}{r} 11 \\ + 3 \\ \hline \end{array}$$

$$\begin{array}{r} - 5 \\ \hline \end{array}$$

$$\begin{array}{r} + 4 \\ \hline \end{array}$$

$$\begin{array}{r} - 7 \\ \hline \end{array}$$

$$\begin{array}{r} + 12 \\ \hline \end{array}$$

$$\begin{array}{r} 20 \\ - 6 \\ \hline \end{array}$$

$$\begin{array}{r} + 3 \\ \hline \end{array}$$

$$\begin{array}{r} - 9 \\ \hline \end{array}$$

$$\begin{array}{r} + 12 \\ \hline \end{array}$$

$$\begin{array}{r} - 1 \\ \hline \end{array}$$

$$\begin{array}{r} 13 \\ + 3 \\ \hline \end{array}$$

$$\begin{array}{r} - 8 \\ \hline \end{array}$$

$$\begin{array}{r} + 1 \\ \hline \end{array}$$

$$\begin{array}{r} + 8 \\ \hline \end{array}$$

$$\begin{array}{r} - 3 \\ \hline \end{array}$$

$$\begin{array}{r} 7 \\ + 8 \\ \hline \end{array}$$

$$\begin{array}{r} + 2 \\ \hline \end{array}$$

$$\begin{array}{r} - 9 \\ \hline \end{array}$$

$$\begin{array}{r} + 11 \\ \hline \end{array}$$

$$\begin{array}{r} - 13 \\ \hline \end{array}$$

$$\begin{array}{r} 12 \\ + 8 \\ \hline \end{array}$$

$$\begin{array}{r} - 9 \\ \hline \end{array}$$

$$\begin{array}{r} + 5 \\ \hline \end{array}$$

$$\begin{array}{r} - 7 \\ \hline \end{array}$$

$$\begin{array}{r} + 3 \\ \hline \end{array}$$

Şifre:

TÜRKÇE

⇒ Aşağıdaki cümlelerde özel isimlerin yazımında yanlışlık yapılmıştır. Yanlış yazılan kelimelerin altını çizelim.

- ⇒ Ayşenin karnı çok ağrıyormuş.
- ⇒ Halam ve büyük amcam malatyada oturuyor.
- ⇒ Kedim tekirle bahçede top oynadık.
- ⇒ Hülya, zeynep ve betül piknik yapmak için parka gittiler.
- ⇒ Küçük kardeşim alper bu sene 1. sınıfa başladı.
- ⇒ Bayram ziyareti için uşaktan antalyaya gittiler.

⇒ Aşağıdaki resimle ilgili 2 cümle yazalım.



→ _____

→ _____

HAYAT BİLGİSİ

⇒ Aşağıda verilen öğrencilerden üzerinde nezaket ifadesi yazılı olan kartları tutanları işaretleyelim.



Teşekkür ederim



Çekil önümden



Afiyet olsun



Sana ne



Özür dilerim

➤ Aşağıdaki toplama ve çıkarma işlemlerini yapalım. Bulduğumuz sonuçlara göre resmi boyyalım.

5+2

9+6

7+8

8+5

20-5

1+11

1+1

14-2

7+6

7+2

20-9

2+8

13-5

4+5

14-3

13-8

0+7

11+5

18-6

20-13

6+6

17-7

11-4

8+6

7+3

4+8

15-3

5+6

4+7

3+2

4+6

13-0

- 13 5 7 14 16 7
- 10 11 12 8 9 2

TÜRKÇE

➔ Aşağıda karışık olarak verilen kelimelerle anlamlı cümleler oluşturalım.

gibi

kokuyordu

çiçekler

mis

teşekkür

annesine

etti

Ecrin

sobanın

Çomar

uyuyakaldı

yanında

fil

arıyordu

anne

yavrusunu

HAYAT BİLGİSİ

➔ Sağlığımızı korumak için kişisel bakımımızı düzenli olarak yapmalıyız. Aşağıdaki resimlerden kişisel bakımımızı ifade edenleri işaretleyelim.



➤ Aşağıdaki problemleri işlem yaparak çözelim.

Sepetteki yumurtalara
5 yumurta
daha eklenirse, sepette
kaç yumurta olur?



Esra bahçedeki çiçeklerden
4 tanesini topladığında,
bahçede kaç çiçek kalır?



Tabağa 7 bisküvi daha
konulursa, tabakta kaç
bisküvi
olur?



Balonlardan
8 tanesi pat-
larsa geriye
kaç balon
kalır?



Kalemiğe 7 ka-
lem daha koyu-
lursa, kalemlikte
kaç kalem olur?




Keklerden 3
tanesini yersem
geriye kaç kek
kalır?



TÜRKÇE

- ⇒ Çiçeğin yapraklarında verilen zıt anlamlı kelimeleri aynı renge boyayalım.





- ⇒ Aşağıdaki cümleleri anlamlı olacak şekilde tamamlayalım.

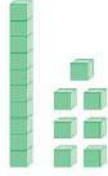
- ⇒ Gamze okuldan eve
⇒ Elma, armut ve muz en sevdiğim
⇒ Kardeşimle birlikte parkta oyun
⇒ Seni gördüğüme çok memnun
⇒ Derste konuşmak için parmak

HAYAT BİLGİSİ

- ⇒ Aşağıdaki besinlerden hayvansal olanların altına "H", bitkisel olanların altına "B" yazalım.



1.



Yukarıda taban bloklarıyla gösterilen sayı aşağıdakilerden hangisinde doğru şekilde ifade edilmiştir?

- A) 1 onluk 6 birlik
- B) 1 onluk 7 birlik
- C) 1 onluk 8 birlik

3. Aşağıdaki toplama işlemlerinden hangisinin toplamı diğerlerinden farklıdır?

- A) $3 + 5 = \dots$
- B) $6 + 2 = \dots$
- C) $4 + 5 = \dots$

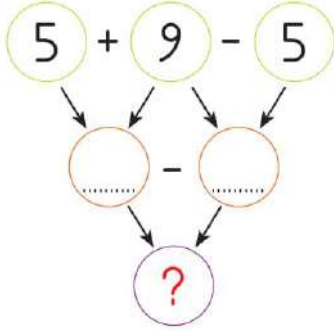
2. Aşağıdaki seçeneklerden hangisinde verilen dairelerden 5.si mavi renklidir?

- A) ● ● ● ● ● ● ● ● ● ●
- B) ● ● ● ● ● ● ● ● ● ●
- C) ● ● ● ● ● ● ● ● ● ●

4. Aşağıdaki toplama işlemlerinden hangisinin toplamı 10'dan küçüktür?

- A) $9 + 6 = \dots$
- B) $7 + 4 = \dots$
- C) $6 + 3 = \dots$

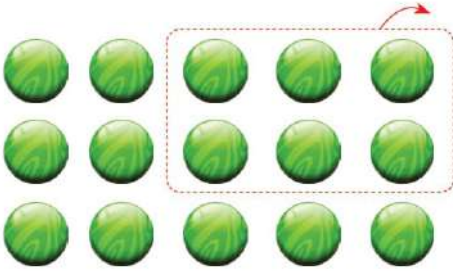
5.



Yukarıdaki işlemler ok yönünde yapıldığında “?” olan yere hangisi yazılır?

- A) 10 B) 11 C) 12

6.



Yukarıda modellenen çıkarma işlemi aşağıdakilerden hangisidir?

- A) $15 - 6 = \dots$
 B) $16 - 5 = \dots$
 C) $18 - 6 = \dots$

7.

yu_ ur_a

Hangisi yukarıdaki kelimenin eksik harflerinden biridir?

- A) a B) l C) m

8.



Yukarıdaki yiyeceğin ismindeki harfleri kullanarak aşağıdaki kelimelerden hangisini yazamayız?

- A) makara
 B) rakam
 C) karne

9. Aşağıdaki cümlelerden hangisinde "ileri" kelimesinin zıt anlamlısı kullanılmıştır?

- A) Onunla ilk kez bugün karşılaştım.
- B) Okul gezisine giden öğrenciler geri dönmedi.
- C) Yemekten sonra herkes uykuya daldı.

10. Aşağıdakilerden hangisinde özel isim yanlış yazılmıştır?

- A) Tatil için uludağa gitmişler.
- B) Mahmut, kedisi Mirnav'ı beslemeye gitti.
- C) Yönünü bulmak için Kutup Yıldızı'ndan faydalanmış.

11. Aşağıdaki ifadelerden hangisi doğrudur?

- A) Aynı sınıfta olduğumuz arkadaşlarımızla, fiziksel özelliklerimiz de aynıdır.
- B) Sağlıklı yaşamak için kişisel bakımımıza özen göstermeliyiz.
- C) Dişlerimizi fırçalarken suyu açık bırakmalıyız.

12. Aşağıdakilerden hangisi okul içinde uymamız gereken kurallardan biri değildir?

- A) Derse geç girmek
- B) Merdivenden inip çıkarken koşmamak
- C) Pencereden aşağıya sarkmamak

1.A	2.C	3.C	4.C	5.A	6.A	7.C	8.C	9.B	10.A	11.C	12.A
Değerlendirme Testi Cevap Anahtarı											

İki resim arasındaki 7 farkı bulalım.

